

КОНТУРНІ КАРТИ

Географія:
регіони та країни



ЗМІСТ

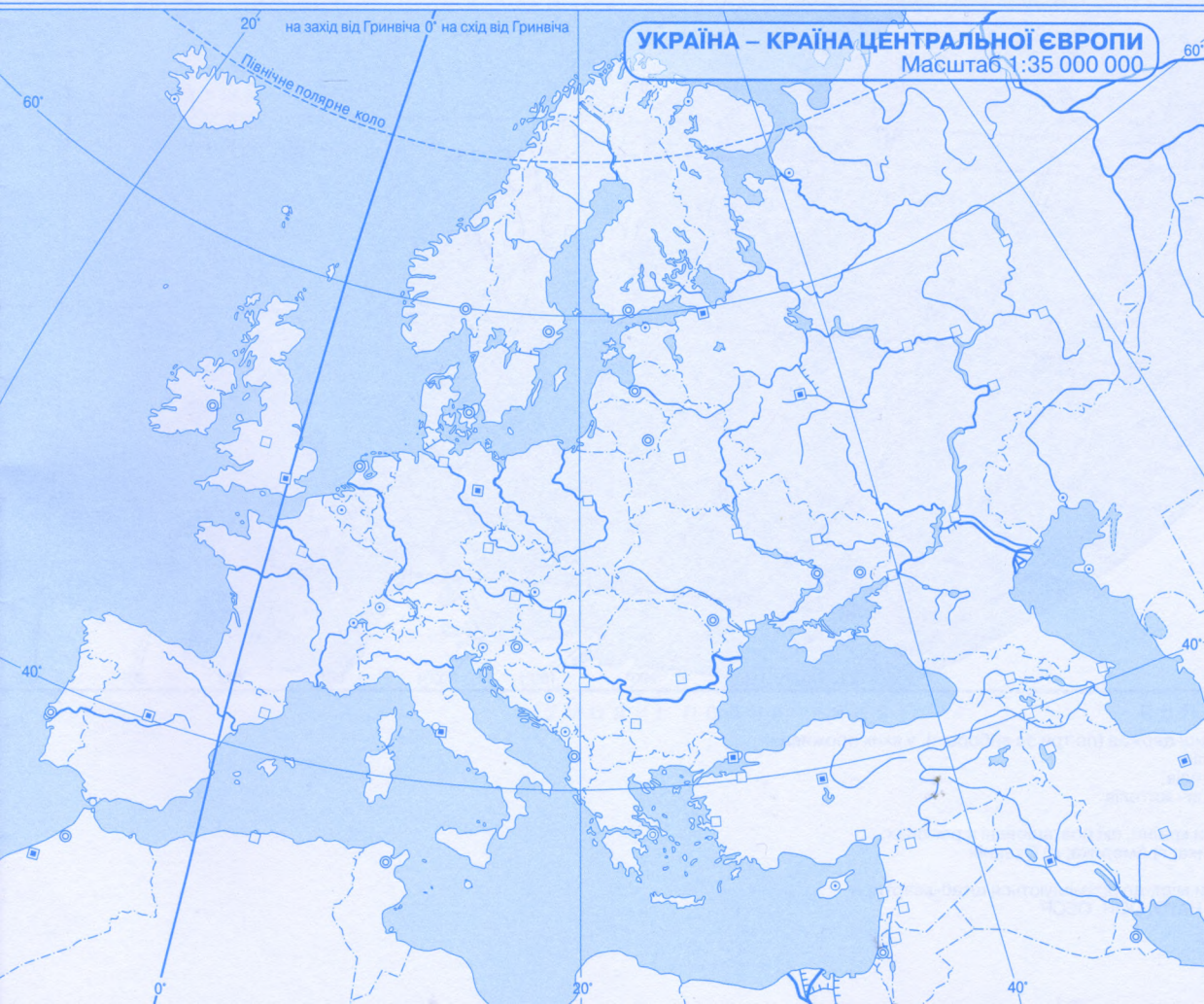
Сторінки		Масштаби
1	РЕГІОНИ СВІТУ.....	1:165 000 000
	УКРАЇНА – КРАЇНА ЦЕНТРАЛЬНОЇ ЄВРОПИ	1:35 000 000
2-3	ПОЛІТИЧНА КАРТА СВІТУ	1:85 000 000
4	ЄВРОПА	1:24 000 000
5	НІМЕЧЧИНА	1:4 500 000
6	ФРАНЦІЯ.....	1:5 000 000
7	ВЕЛИКА БРИТАНІЯ	1:5 000 000
8	ІТАЛІЯ	1:5 000 000
9	АЗІЯ.....	1:40 000 000
	ТУРЕЧЧИНА	1:17 500 000
	КРАЇНИ ПЕРСЬКОЇ ЗАТОКИ	1:17 500 000
10	КИТАЙ	1:20 000 000
11	ЯПОНІЯ	1:10 000 000
	СЯНГАН (ГОНКОНГ).....	1:1 000 000
	ТАЙВАНЬ.....	1:10 000 000
	СІНГАПУР	1:1 000 000
	КОРЕЯ ПІВДЕННА	1:10 000 000
12	ІНДІЯ	1:15 000 000
13	ОКЕАНІЯ	1:45 000 000
14	АМЕРИКА	1:70 000 000
15	СПОЛУЧЕНІ ШТАТИ АМЕРИКИ	1:17 000 000
16	КАНАДА	1:20 000 000
17	ПІВДЕННА, ЦЕНТРАЛЬНА АМЕРИКА ТА КАРИБИ	1:40 000 000
18	АФРИКА	1:38 000 000
19	УКРАЇНА	1:5 000 000
20	СВІТ.....	1:120 000 000
	ЄВРОПА	1:50 000 000



ЗАВДАННЯ

1. Підлишіть регіони світу
2. Позначте і підлишіть субрегіон, до якого належить Україна

УМОВНІ ПОЗНАЧЕННЯ



УКРАЇНА – КРАЇНА ЦЕНТРАЛЬНОЇ ЄВРОПИ
Масштаб 1:35 000 000

ЗАВДАННЯ

1. Позначте кордони і підлишіть назви столиць держав, з якими межує Україна
2. Позначте, у якій країні знаходиться географічний центр Європи
3. Позначте на карті країни Європейського Союзу (ЄС)

УМОВНІ ПОЗНАЧЕННЯ

ПОЛІТИЧНА КАРТА СВІТУ

Масштаб 1:85 000 000



ЗАВДАННЯ

1. Позначте і підпишіть столиці держав (по три за вибором), у яких проживає:
 - а) понад 3 мільйони жителів;
 - б) від 1 до 3 мільйонів жителів;
 - в) від 100 тисяч до 500 тисяч жителів
2. Виберіть і підпишіть по три країни, які розташовані в регіонах:
 - а) Азія; б) Європа; в) Африка; г) Америка; д) Океанія
3. Позначте і підпишіть назви міст, де розміщуються штаб-квартири міжнародних організацій НАТО, ООН, ОЕСР



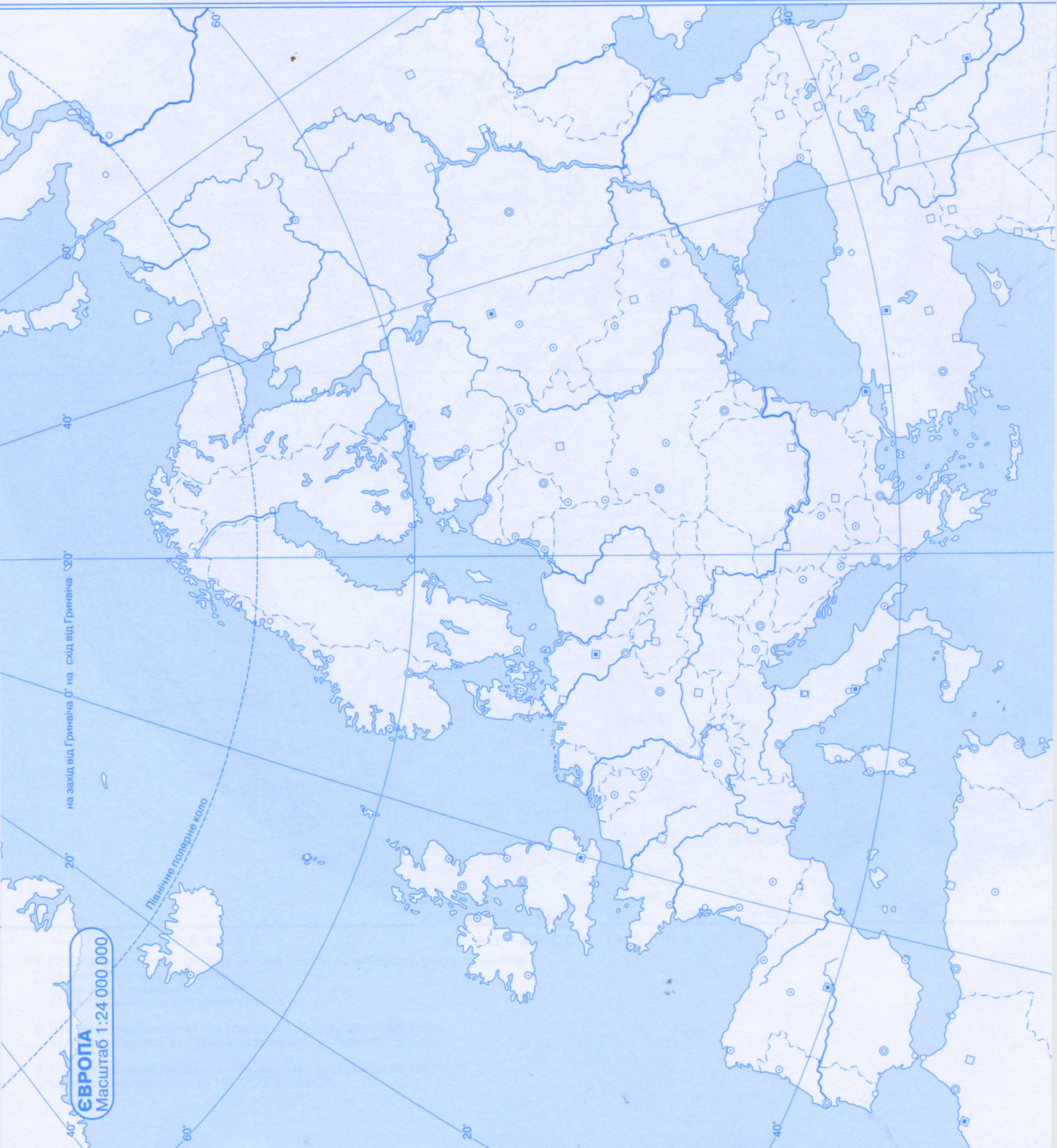
УМОВНІ ПОЗНАЧЕННЯ

УМОВНІ ПОЗНАЧЕННЯ

ЗАВДАННЯ

1. Позначте і підпишіть суб-регіони Європи
2. Позначте кордони і столицю України, держав-сусідів України, підпишіть назви їхніх столиць
3. Позначте найбільшу за площею країну Європи
4. Позначте і підпишіть штаб-квартири європейських інтеграційних об'єднань: Ради Європи, Європейського Союзу (ЄС), Організації з безпеки та співробітництва в Європі (ОБСЄ)
5. Позначте і підпишіть річку Європи, ім'ям якої названо водний Критський міжнародний транспортний коридор №7
6. Позначте держави Європи, на території яких існують осередки сепаратизму

УМОВНІ ПОЗНАЧЕННЯ

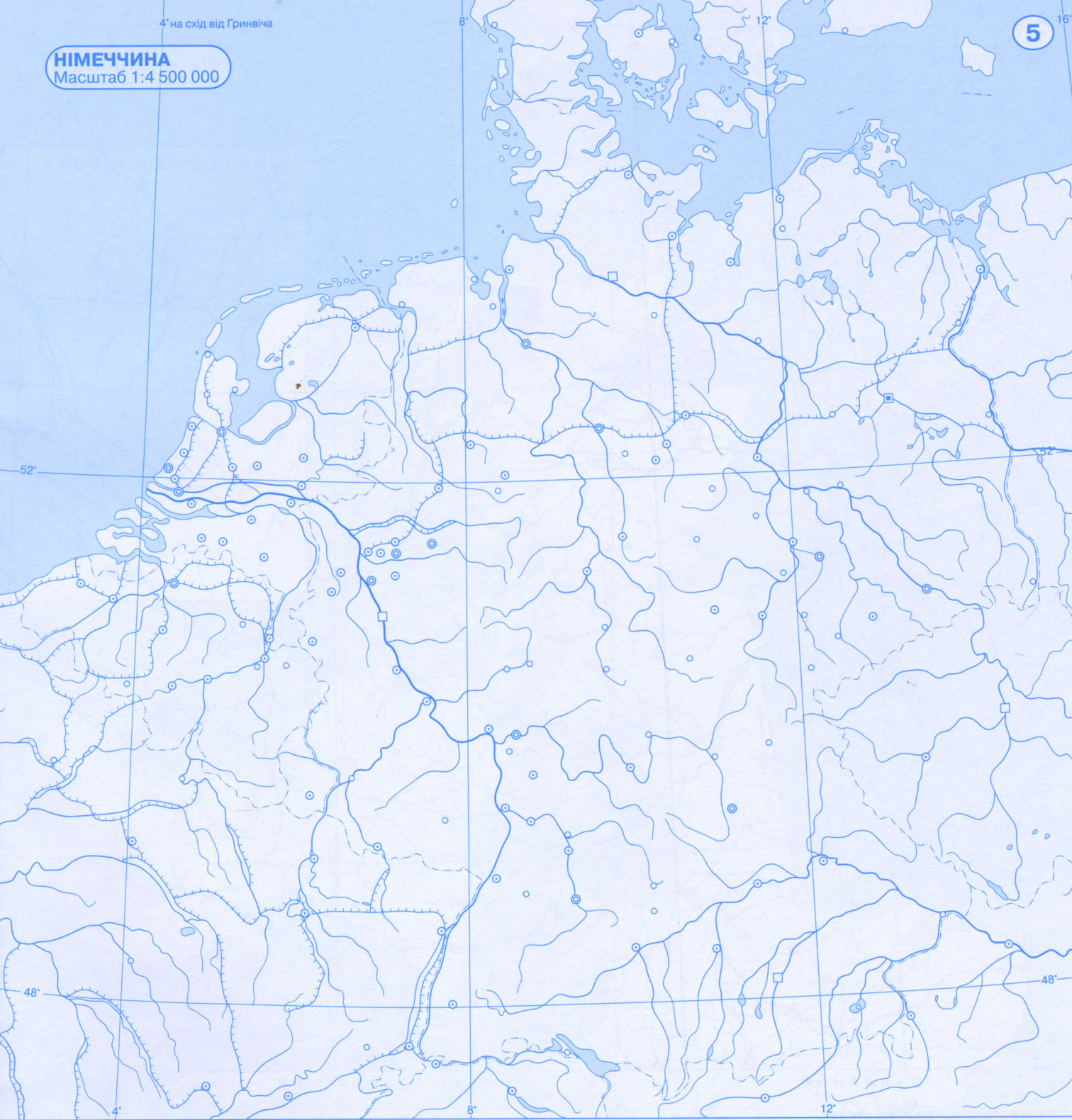


ЄВРОПА

Масштаб 1:24 000 000

НІМЕЧЧИНА

Масштаб 1:4 500 000



ЗАВДАННЯ

УМОВНІ ПОЗНАЧЕННЯ

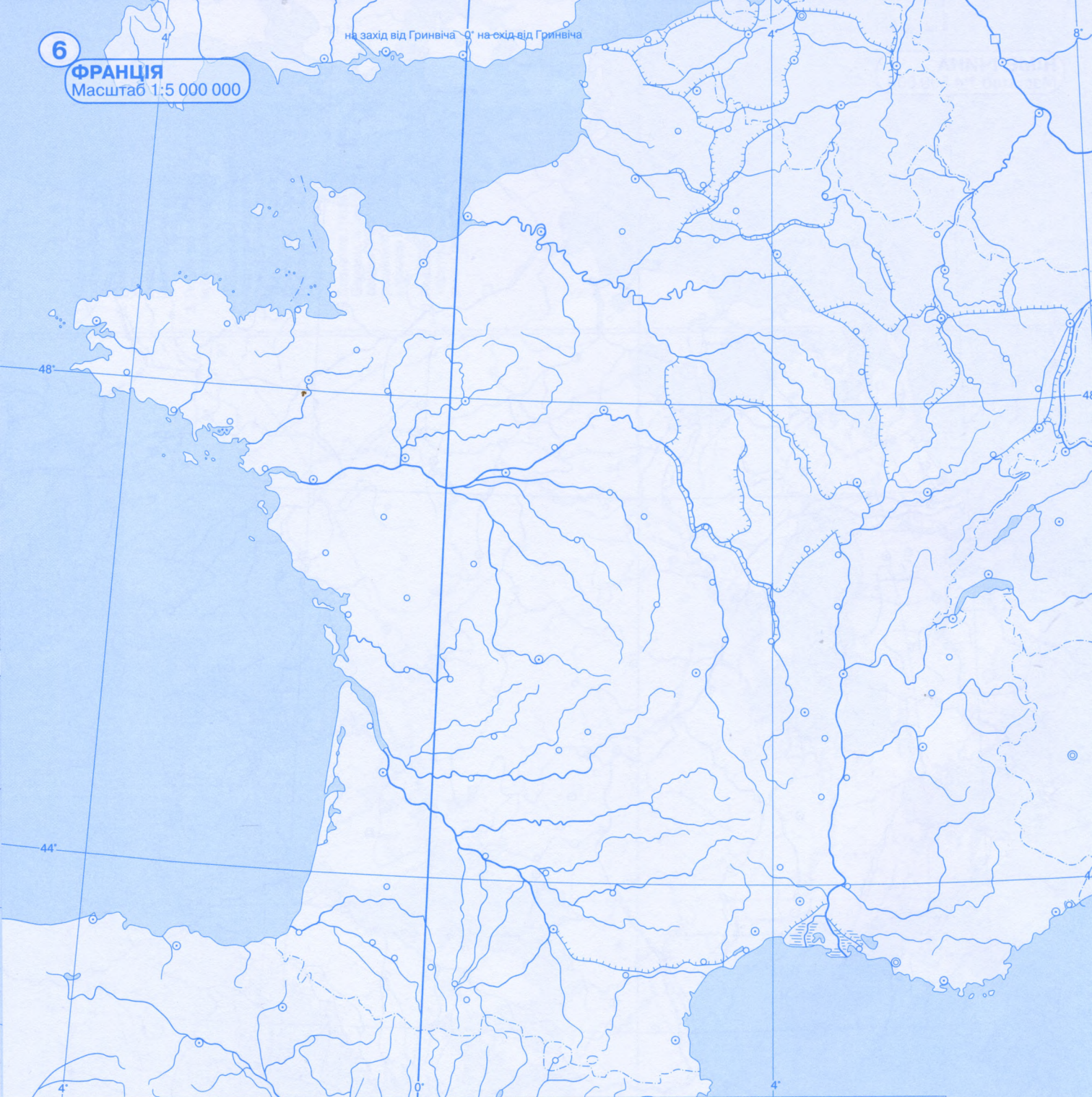
1. Позначте на карті основні центри:
а) нафтопереробки; б) чорної металургії;
в) автомобілебудування: «Фольксваген»,
«БМВ», «Опель»;
г) суднобудування; д) літакобудування
2. Нанесіть на карту основні райони:
а) молочного скотарства;
б) вирощування пшениці, ячменю;
в) гірськопасовищного тваринництва
3. Позначте і підлишіть найбільші агломерації Німеччини

6

ФРАНЦІЯ

Масштаб 1:5 000 000

на захід від Гринвіча 0° на схід від Гринвіча



ЗАВДАННЯ

УМОВНІ ПОЗНАЧЕННЯ

1. Нанесіть на карту основні центри:
а) нафтопереробки; б) чорної металургії
2. Нанесіть на карту основні центри:
а) автомобілебудування;
б) літакобудування;
в) суднобудування
3. Позначте на карті основні райони:
а) вирощування зернових культур;
б) виноградарства, садівництва, овочівництва
4. Позначте найпотужніші АЕС
5. Позначте першу у світі припливну гідроелектростанцію, збудовану на річці Ранс
6. Позначте місто, де розташована штаб-квартира ЮНЕСКО

О. КОРСИКА
Масштаб 1:5 000 000



12°

8°

4°

на захід від Гринвіча 0° на схід від Гринвіча

7

ВЕЛИКА БРИТАНІЯ
Масштаб 1:5 000 000

УМОВНІ ПОЗНАЧЕННЯ

ЗАВДАННЯ

1. Позначте на карті основні райони та центри:
а) нафтогазовидобування; б) нафтопереробки
2. Нанесіть на карту основні райони:
а) чорної металургії; б) кольорової металургії
3. Позначте на карті основні центри машинобудування:
а) автомобілебудування; б) авіакосмічного;
в) суднобудування; г) оптико-механічного
4. Нанесіть на карту основні райони:
а) вирощування зернових культур;
б) вівчарства та м'ясного скотарства
5. Позначте на карті найпотужніші ТЕС

8

8° на схід від Гринвіча

12°

ІТАЛІЯ

Масштаб 1:5 000 000

ЗАВДАННЯ

1. Нанесіть на карту основні центри:
 - а) нафтопереробки;
 - б) чорної металургії
2. Нанесіть на карту центри машинобудування з виробництва:
 - а) автомобілів «Фіат», «Феррарі», «Альфа-Ромео»;
 - б) морських суден;
 - в) електротехніки та електроніки
3. Позначте на карті основні райони:
 - а) вирощування субтропічних культур та виноградарства;
 - б) гірськопасовищного тваринництва
4. Знайдіть і позначте державу-анклав на території Італії, яка існує з 301 р.н.е. і є найстарішою у світі республікою
5. Позначте і підпишіть італійський острів і найвищий діючий вулкан Європи, що височіє на ньому і є визначним природним об'єктом, занесеним до Списку всесвітньої спадщини ЮНЕСКО

УМОВНІ ПОЗНАЧЕННЯ

12°

16°



АЗІЯ
Масштаб 1:40 000 000

9

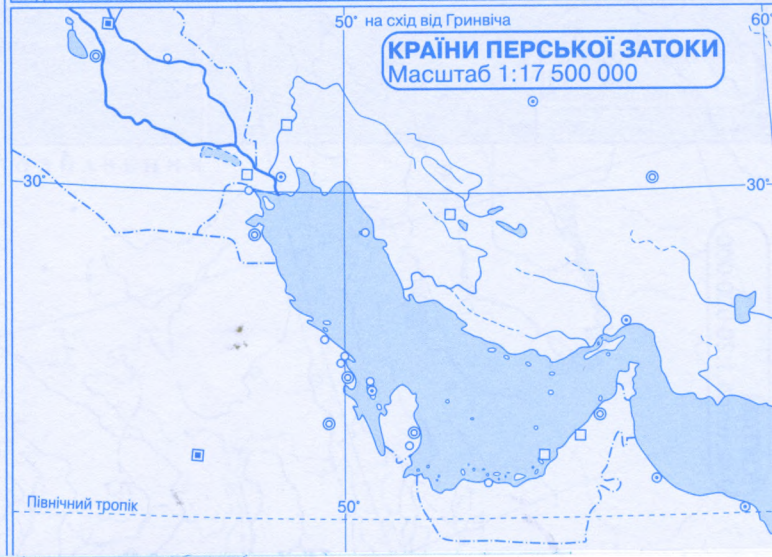
ЗАВДАННЯ

1. Позначте і підпишіть на карті Азії:
 - а) п'ять субрегіонів;
 - б) п'ять країн з найбільшою чисельністю населення;
 - в) місто, де розташована штаб-квартира організації АСЕАН (Асоціація Південно-Східної Азії)
2. На карті Туреччини позначте і підпишіть місто та протоку, яка його розділяє на азійську та європейську частини
3. На карті «Країни Перської затоки» позначте і підпишіть вісім узбережних країн Перської затоки

УМОВНІ ПОЗНАЧЕННЯ



ТУРЕЧЧИНА
Масштаб 1:17 500 000



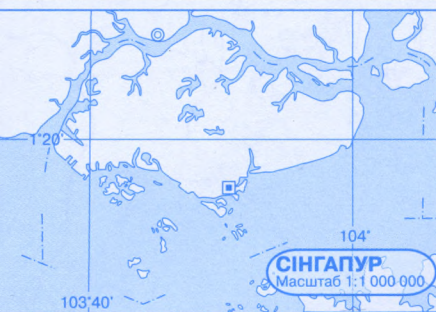
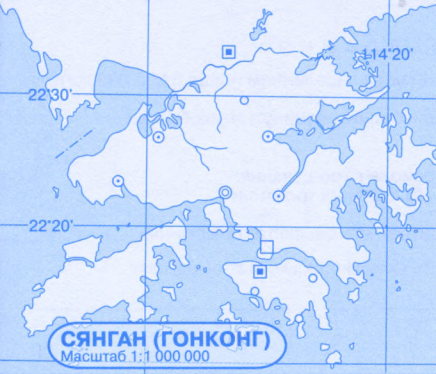
КРАЇНИ ПЕРСЬКОЇ ЗАТОКИ
Масштаб 1:17 500 000

ЗАВДАННЯ

1. Позначте і підпишіть десять міст з населенням понад 3 000 000 жителів
2. Позначте на карті основні центри:
а) нафтопереробки; б) чорної металургії;
в) електроніки; г) текстильної промисловості
3. Позначте на карті основні райони:
а) рисосіяння;
б) вирощування технічних культур
4. Позначте найбільшу і найпотужнішу у світі ГЕС Санься (Три Ущелини)
5. Позначте і підпишіть спеціальні адміністративні райони Сянган (Гонконг) і Аоминь (Макао)

УМОВНІ ПОЗНАЧЕННЯ

Північний тропік



ЗАВДАННЯ

1. Позначте і підпишіть на карті Японії острів, на якому знаходиться столиця країни
2. Позначте на карті найбільші міста-мільйонери Японії (крім Токіо)
3. Нанесіть на карту порти-велетні Японії
4. Нанесіть на карту АЕС, реактори якої постраждали від землетрусу та цунамі у 2011 році
5. На карті Південної Кореї позначте та підпишіть міста-мільйонери цієї країни



УМОВНІ ПОЗНАЧЕННЯ

ЗАВДАННЯ

1. Позначте і підпишіть десять міст з населенням понад 3 000 000 жителів
2. Нанесіть на карту чотири центри, де розвинуті літакобудування та електротехніка
3. Нанесіть на карту основні райони вирощування:
 - а) чаю;
 - б) цукрової тростини
4. Позначте межу спірної території між Індією та Пакистаном
5. Нанесіть на карту і підпишіть назву індійського космодрому



УМОВНІ ПОЗНАЧЕННЯ

ОКЕАНІЯ

Масштаб 1:45 000 000



УМОВНІ ПОЗНАЧЕННЯ

ЗАВДАННЯ

1. Позначте і підпишіть субрегіони Океанії
2. Позначте і підпишіть п'ять незалежних острівних держав Океанії
3. Позначте острови у Меланезії, де знаходиться найбільше у світі родовище нікелевих руд, а в столиці розташована штаб-квартира організації СТС (Секретаріат Тихоокеанської Спільноти)
4. Нанесіть на карту родовища Австралії:
а) паливних корисних копалин;
б) рудних корисних копалин
5. Позначте на карті Австралії райони:
а) вирощування пшениці;
б) пасовищного вівчарства
6. Нанесіть на карту найбільші морські порти Австралії та Нової Зеландії

АМЕРИКА

Масштаб 1:70 000 000



ЗАВДАННЯ

1. Позначте і підпишіть субрегіони Америки
2. Нанесіть на карту центри автомобілебудування
3. Нанесіть на карту райони вирощування цукрової тростини
4. Позначте місто, де знаходиться штаб-квартира ООН
5. Підпишіть назви країн, якими пролягає Панамериканське шосе

УМОВНІ ПОЗНАЧЕННЯ

Північне полярне коло

Північний тропік

Екватор

Південний тропік

СПОЛУЧЕНІ ШТАТИ АМЕРИКИ

Масштаб 1:17 000 000

на схід від Гринвіча 70°

ЗАВДАННЯ

1. Позначте і підпишіть найбільші агломерації США
2. Нанесіть на карту нафтогазоносні та кам'яновугільні басейни
3. Нанесіть на карту найбільші центри машинобудування
4. Нанесіть на карту межі 50 штатів США та Федерального столичного округу Колумбія, підпишіть назви штатів та їхніх центрів
5. Позначте штат, в якому розташовано найвідоміший технополіс світу Кремнієва долина

ШТАТ АЛЯСКА

Масштаб 1:40 000 000

на захід від 160°
Гринвіча

Північне полярне коло

ШТАТ ГАВАЇ

Масштаб 1:40 000 000

Північний тропік

на захід від Гринвіча 160°

УМОВНІ ПОЗНАЧЕННЯ

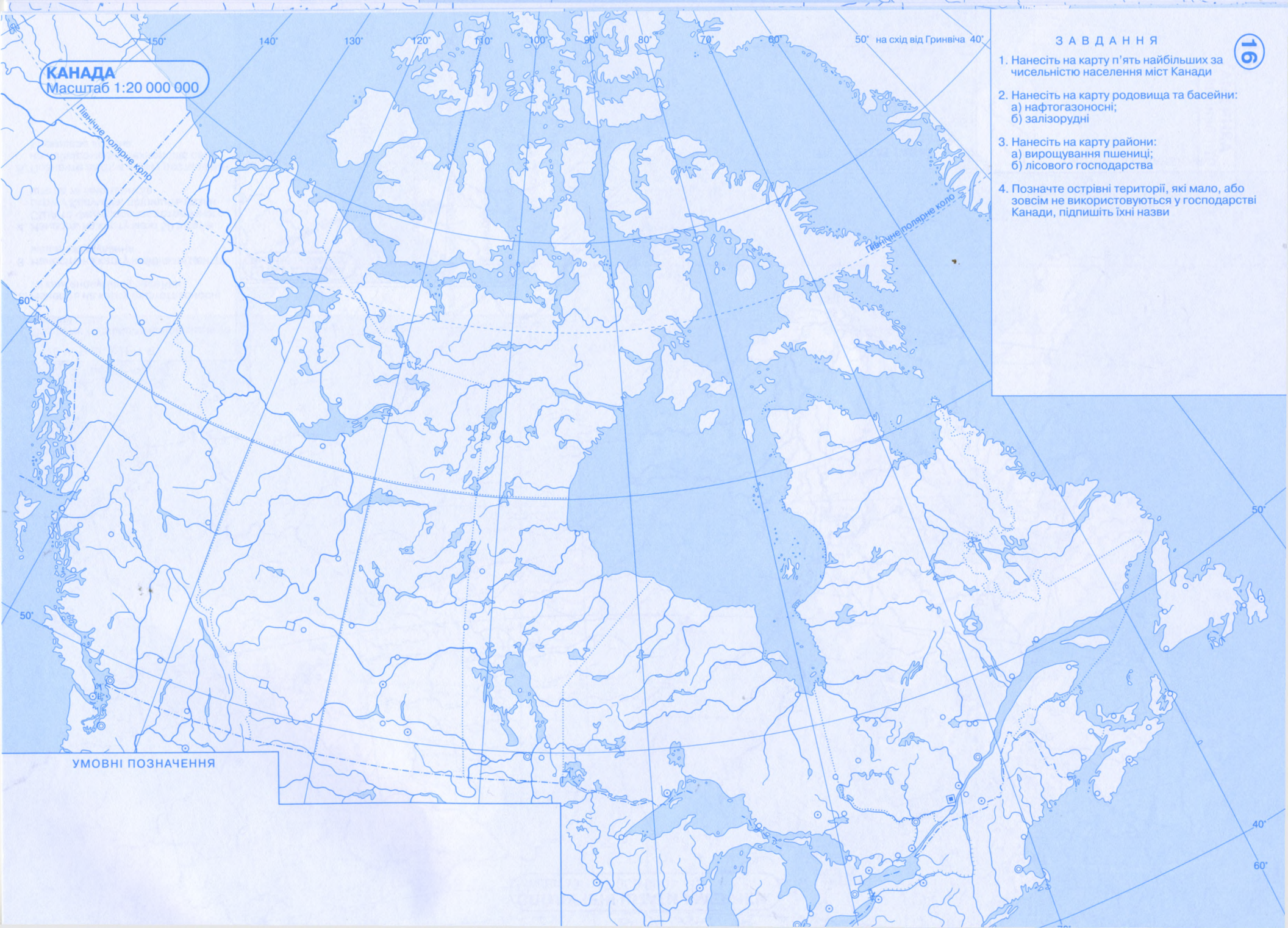
КАНАДА
Масштаб 1:20 000 000

УМОВНІ ПОЗНАЧЕННЯ

ЗАВДАННЯ

16

1. Нанесіть на карту п'ять найбільших за чисельністю населення міст Канади
2. Нанесіть на карту родовища та басейни:
а) нафтогазоносні;
б) залізорудні
3. Нанесіть на карту райони:
а) вирощування пшениці;
б) лісового господарства
4. Позначте островні території, які мало, або зовсім не використовуються у господарстві Канади, підпишіть їхні назви



ПІВДЕННА, ЦЕНТРАЛЬНА АМЕРИКА ТА КАРИБІ
Масштаб 1:40 000 000

МАЛІ АНТИЛЬСЬКІ ОСТРОВИ
Масштаб 1:15 000 000



ЗАВДАННЯ

Позначте і підпишіть на карті:

1. Країни Центральної Америки
2. Острівну країну Карибського субрегіону, відому як країна «цукрової тростини»
3. Державу Південної Америки, що входить до складу ОПЕК, у структурі експорту якої переважає паливо, а назва перекладається як «маленька Венеція»
4. Найпівденнішу столицю країн Америки, штаб-квартиру міжнародної організації МЕРКОСУР
5. Найпотужнішу в Південній Америці ГЕС Ітаїпу
6. Французьку територію в Південній Америці – єдину не острівну заморську територію, розташовану на іншому від країни-метрополії материку

УМОВНІ ПОЗНАЧЕННЯ

АФРИКА

Масштаб 1:38 000 000

Північний тропік

Екватор

Південний тропік

ЗАВДАННЯ

Позначте і підпишіть на карті:

1. Субрегіони Африки
2. П'ять країн з найбільшою чисельністю населення
3. П'ять міст найбільших за чисельністю населення
4. Місто, де розташована штаб-квартира Африканського Союзу
5. Три держави-монархії у Африці та їхні столиці
6. Країни, у яких видобувають алмази

10°

20°

30°

40°

50°

УМОВНІ ПОЗНАЧЕННЯ

24° на схід від Гринвіча

28°

32°

36°

40°

52°

50°

50°

ЗАВДАННЯ

1. Підпишіть назви обласних центрів України
2. Виділіть межі своєї області
3. Позначте і підпишіть центри двох областей України на тимчасово окупованих Росією територіях

УМОВНІ ПОЗНАЧЕННЯ



ЄВРОПА

Масштаб 1:50 000 000

ЗАВДАННЯ

1. Позначте держави, що належать до різних форм державного устрою (по три за вибором):
а) унітарні; б) федеративні
2. Позначте держави, що належать до різних форм державного правління (по три за вибором):
а) монархії; б) республіки
3. Позначте п'ять (за вибором) країн-учасниць Співдружності (Британської Співдружності націй)
4. Позначте кордони і підпишіть назви найбільш економічно розвинутих країн світу – членів «Великої сімки» (G7)
5. Позначте і підпишіть країну-агресора, яку виключили з G8 унаслідок окупації Криму та участі у військовому конфлікті на сході України

УМОВНІ ПОЗНАЧЕННЯ



Навчальні атласи, стінні та контурні карти з природознавства та географії
в магазині «Атласи та карти»
Київ, вул. Попудренка, 54. Тел. (044) 537-04-77, (095) 403-24-18, (095) 277-94-44

КАРТОГРАФІА



10 клас

Географія: регіони та країни



РЕКОМЕНДОВАНО МІНІСТЕРСТВОМ ОСВІТИ І НАУКИ УКРАЇНИ
(лист № 1/11–6845 від 04.07.2018)

Контурні карти відповідають санітарному законодавству України
(висновок № 12.2-18-1/3623 від 27.02.2020)

ДЕРЖАВНЕ НАУКОВО-ВИРОБНИЧЕ ПІДПРИЄМСТВО "КАРТОГРАФІА"

вул. Попудренка, 54, м. Київ-94, 02094
Свідоцтво суб'єкта видавничої справи
ДК №398 від. 03.04.2001 р.

Редактори: І.О. Європіна, С.В. Капустенко,
В.І. Остроух
Технічний редактор С.М. Полторако
Дизайн обкладинки О.В. Христенка

Формат 62x88 Умовн. друк. арк. 2,87
Зам. № 04777 Друк офсетний

ТОВ «Новий друк»
вул. Магнітогорська, 1, м. Київ, 02094
Свідоцтво суб'єкта видавничої справи
ДК № 1447 від 28.07.2003

©ДНВП "Картографія", 2003-2022

ISBN 978-966-946-315-9



9 789669 463159 >