

Рекомендовано МОН



9
КЛАС

КОНТУРНІ КАРТИ

Україна і світове господарство



 КАРТОГРАФІЯ

ukrmap.com.ua

ТИПИ КРАЇН СВІТУ
Масштаб 1:120 000 000



ЗАВДАННЯ

1. Нанесіть на карту кордони і столиці держав, з якими межує Україна
2. Нанесіть на карту основні напрями "інвестиційних" потоків з території України за кордон
3. Позначте на карті країни "Великої сімки" та "Великої двадцятки"
4. Нанесіть на карту кордони і столиці держав (10 на вибір), які на Вашу думку є найважливішими економічними партнерами України у світі

УМОВНІ ПОЗНАЧЕННЯ

24° на схід від Гринвіча

28°

32°

36°

СІЛЬСЬКЕ ГОСПОДАРСТВО УКРАЇНИ Масштаб 1:5 000 000

УМОВНІ ПОЗНАЧЕННЯ

ЗАВДАННЯ

1. Виділіть основні райони буряківництва та виробництва соняшнику, садівництва та виноградарства
2. Позначте райони спеціалізації сільського господарства з м'ясо-молочним скотарством та вівчарством
3. Нанесіть основні центри харчової промисловості та зони сільськогосподарської спеціалізації своєї області

32°

36°

РОСЛИННИЦТВО СВІТУ
Масштаб 1:120 000 000



ЄВРОПА
Масштаб 1:50 000 000



ЗАВДАННЯ

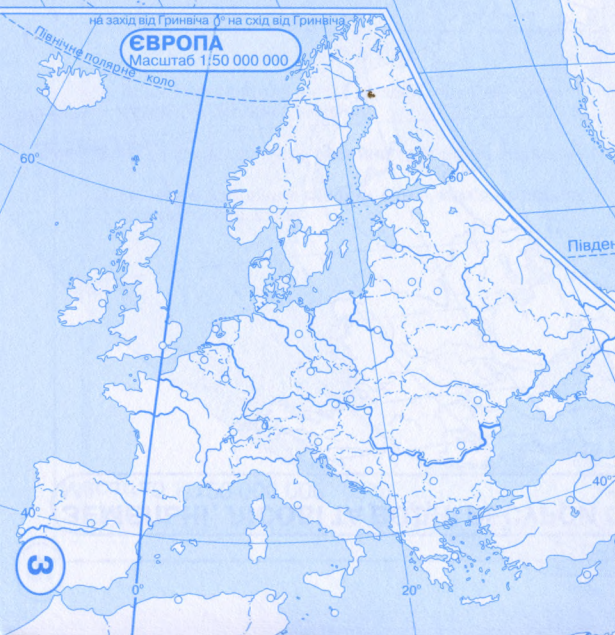
1. Позначте шість держав, що спеціалізуються на експорті пшениці (за вибором):
а) у світі; б) в Європі
2. Позначте п'ять держав, що спеціалізуються на експорті рису (за вибором)
3. Позначте п'ять держав, що спеціалізуються на експорті соняшника (за вибором)
4. Нанесіть на карту (по три за вибором) основні регіони світу, які спеціалізуються на:
а) вирощуванні цукрових буряків; г) бавовнику
б) вирощуванні олійної пальми;
в) виробництві оливкової олії;

УМОВНІ ПОЗНАЧЕННЯ

УМОВНІ ПОЗНАЧЕННЯ

ТВАРИННИЦТВО СВІТУ

Масштаб 1:120 000 000



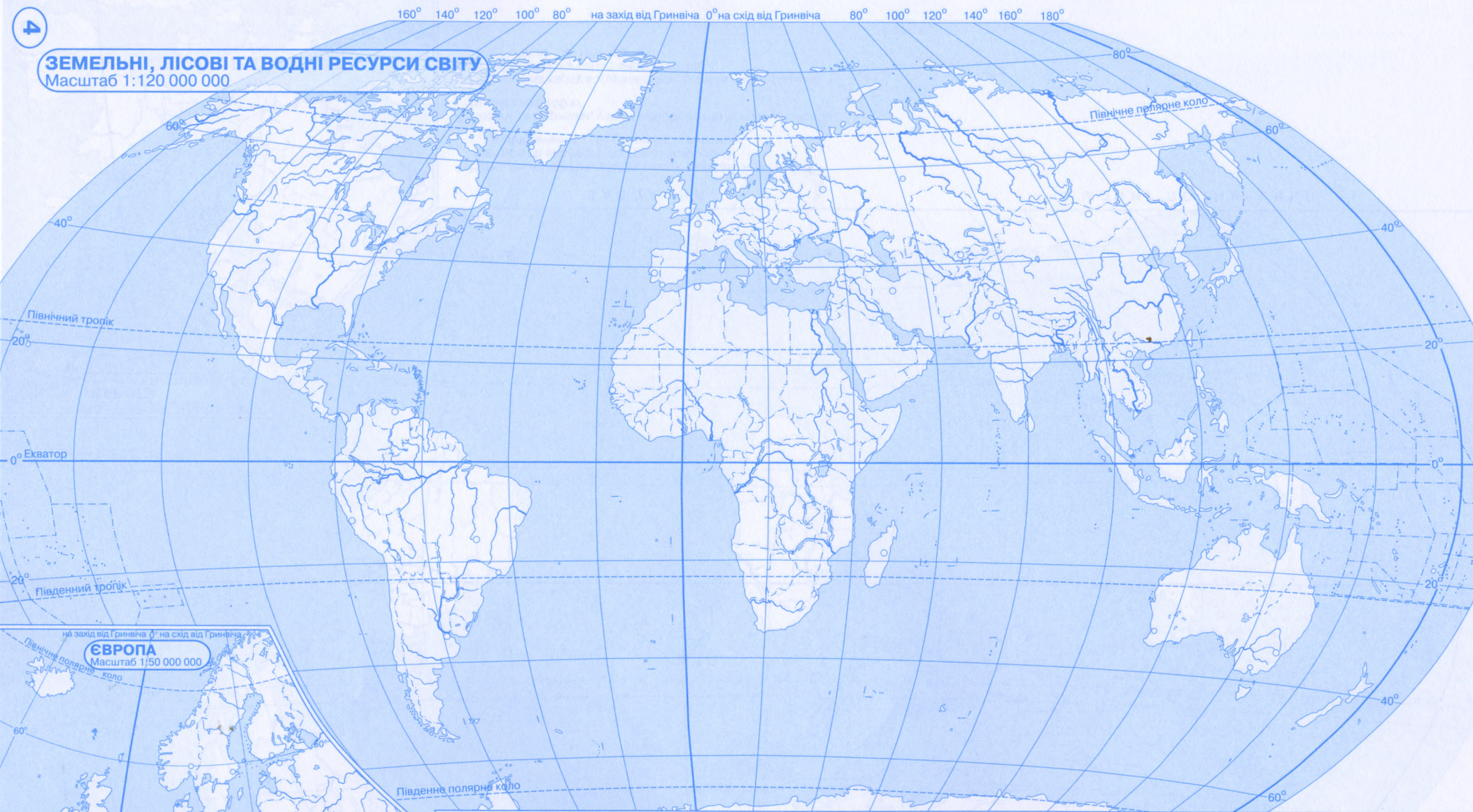
ЗАВДАННЯ

1. Нанесіть на карту кордони шести держав, які спеціалізуються на експорті (по три за вибором):
а) яловичини; б) свинини; в) птиці
2. Позначте держави, у яких виробництво м'яса на 1 особу переважає 100 кг
3. Нанесіть на карту кордони п'яти держав, які посідають провідні місця у світі з виробництва:
а) м'яса; б) молока

УМОВНІ ПОЗНАЧЕННЯ

ЗЕМЕЛЬНІ, ЛІСОВІ ТА ВОДНІ РЕСУРСИ СВІТУ

Масштаб 1:120 000 000



ЄВРОПА

Масштаб 1:50 000 000

ЗАВДАННЯ

1. Позначте на карті три держави, у структурі сільськогосподарських угідь яких переважає рілля (за вибором)
2. Позначте на карті три держави, у структурі сільськогосподарських угідь яких переважають луки і пасовища (за вибором)
3. Нанесіть на карту три держави, в яких відчувається дефіцит вологи (за вибором)
4. Нанесіть на карту три держави, де є великі запаси прісної води (за вибором)
5. Позначте на карті по дві держави – світових постачальників деревини твердих і м'яких порід (за вибором)

УМОВНІ ПОЗНАЧЕННЯ

24° на схід від Гринвіча

28°

32°

36°

МІНЕРАЛЬНО-СИРОВИННІ РЕСУРСИ УКРАЇНИ

Масштаб 1:5 000 000

УМОВНІ ПОЗНАЧЕННЯ

ЗАВДАННЯ

1. Нанесіть нафтогазоносні регіони, підпишіть назви вугільних басейнів України
2. Нанесіть залізородні басейни та райони, підпишіть їх
3. Нанесіть родовища графіту, сірки, кам'яної солі та підпишіть їхні назви

Масштаб 1:5 000 000

28°

32°

36°

МІНЕРАЛЬНО-СИРОВИННІ РЕСУРСИ СВІТУ

Масштаб 1:120 000 000



ЄВРОПА

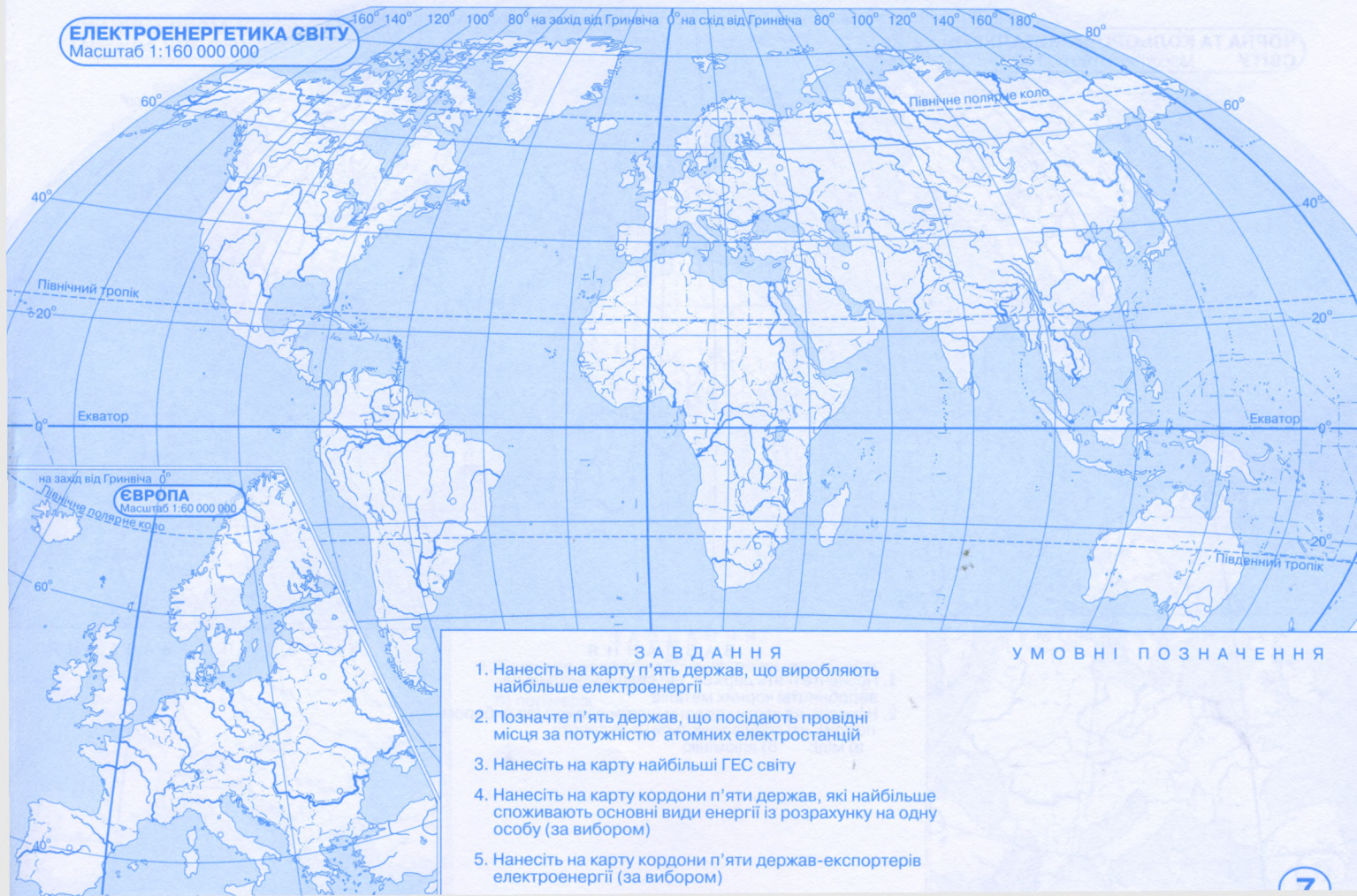
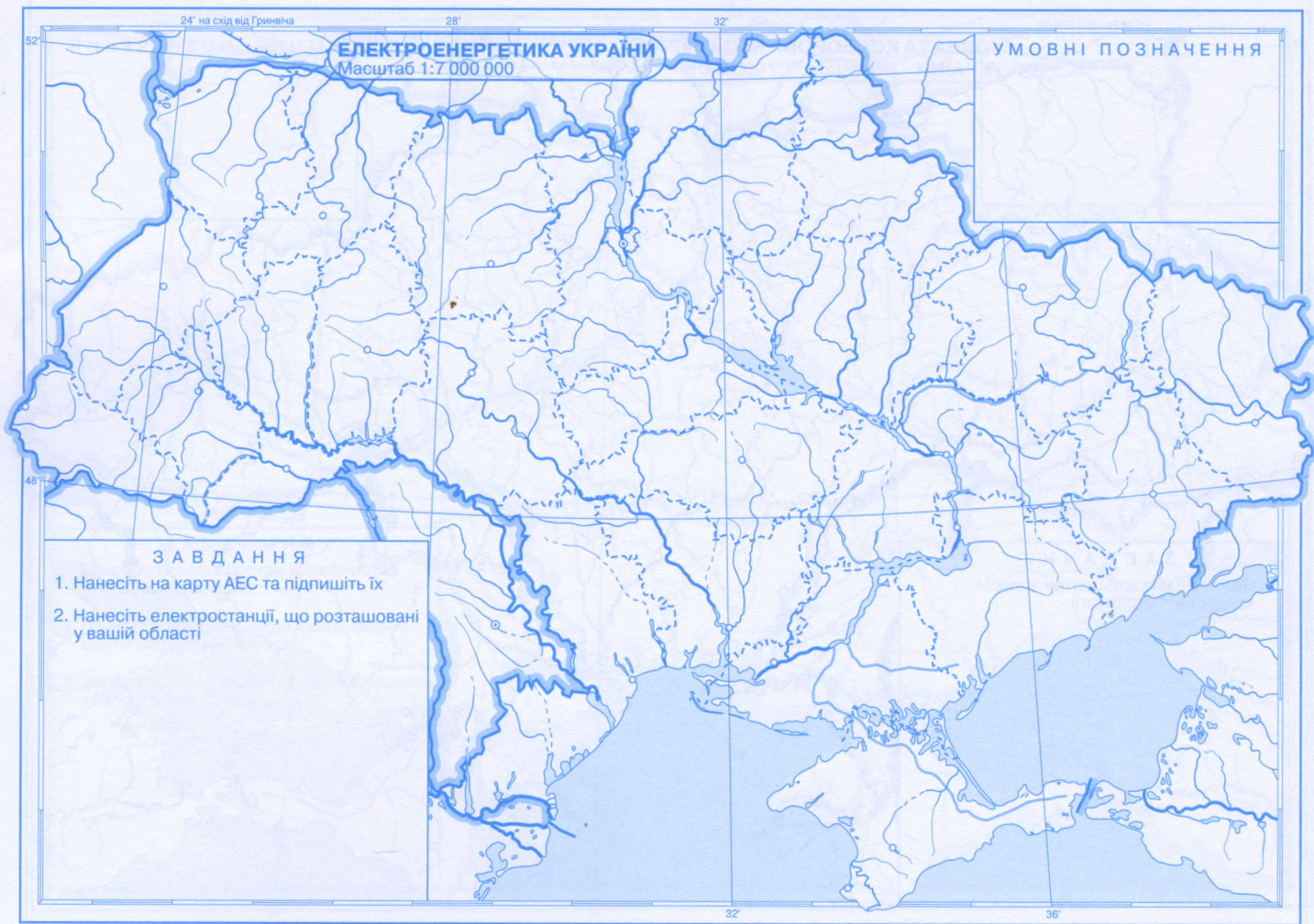
Масштаб 1:50 000 000

ЗАВДАННЯ

1. Нанесіть на карту п'ять найбільших нафтогазоносних басейнів світу
2. Нанесіть на карту п'ять найбільших кам'яновугільних басейнів світу
3. Нанесіть на карту п'ять найбільших залізородних басейнів світу
4. Позначте на карті держави, які володіють значними запасами руд (по дві за вибором):
 - а) марганцевих;
 - б) алюмінієвих;
 - в) мідних
5. Позначте на карті держави, які володіють значними запасами (по дві за вибором):
 - а) калійних солей;
 - б) сірки;
 - в) апатитів та фосфоритів
6. Позначте на карті держави, які володіють значними запасами (за вибором):
 - а) золота; б) алмазів

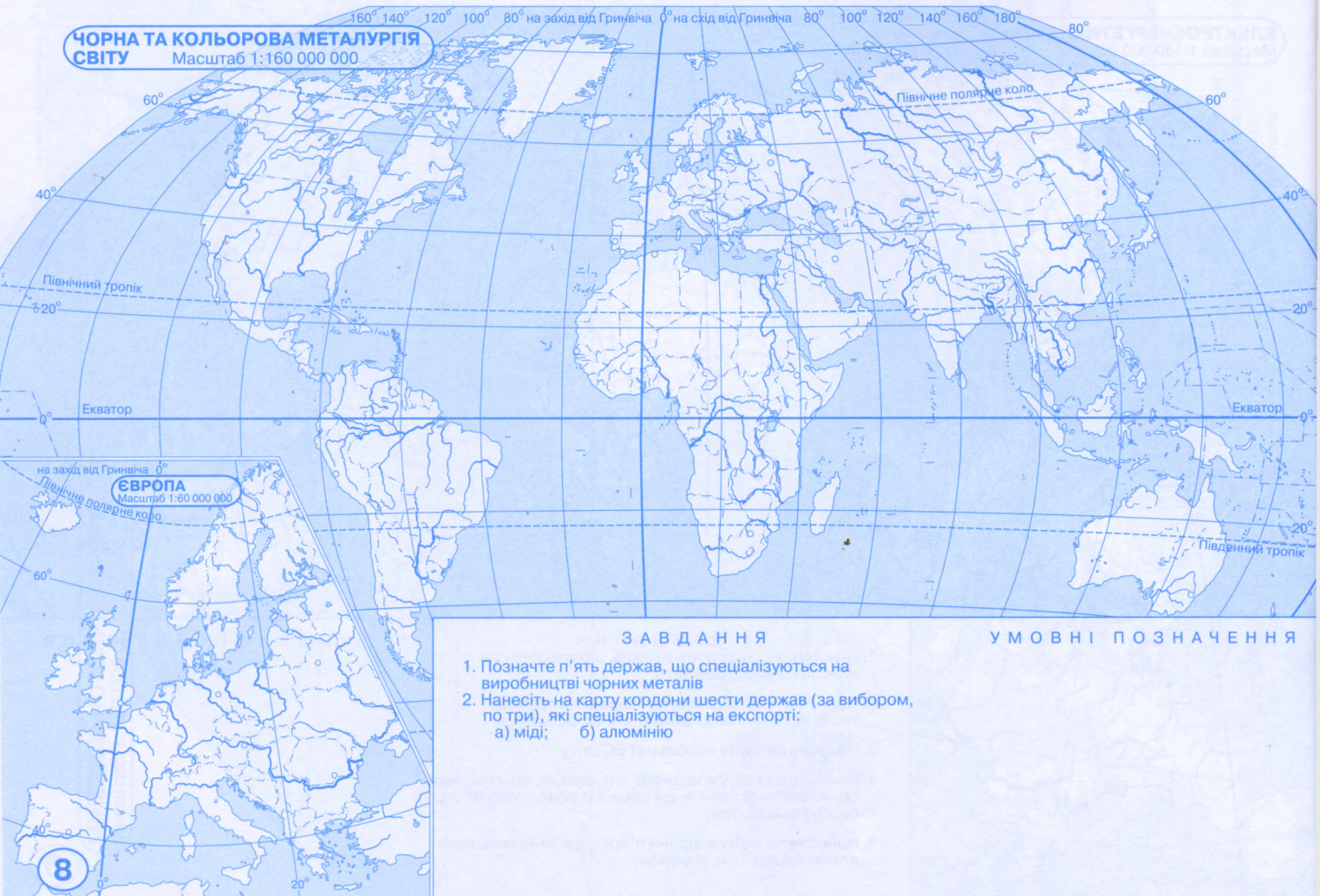
УМОВНІ ПОЗНАЧЕННЯ

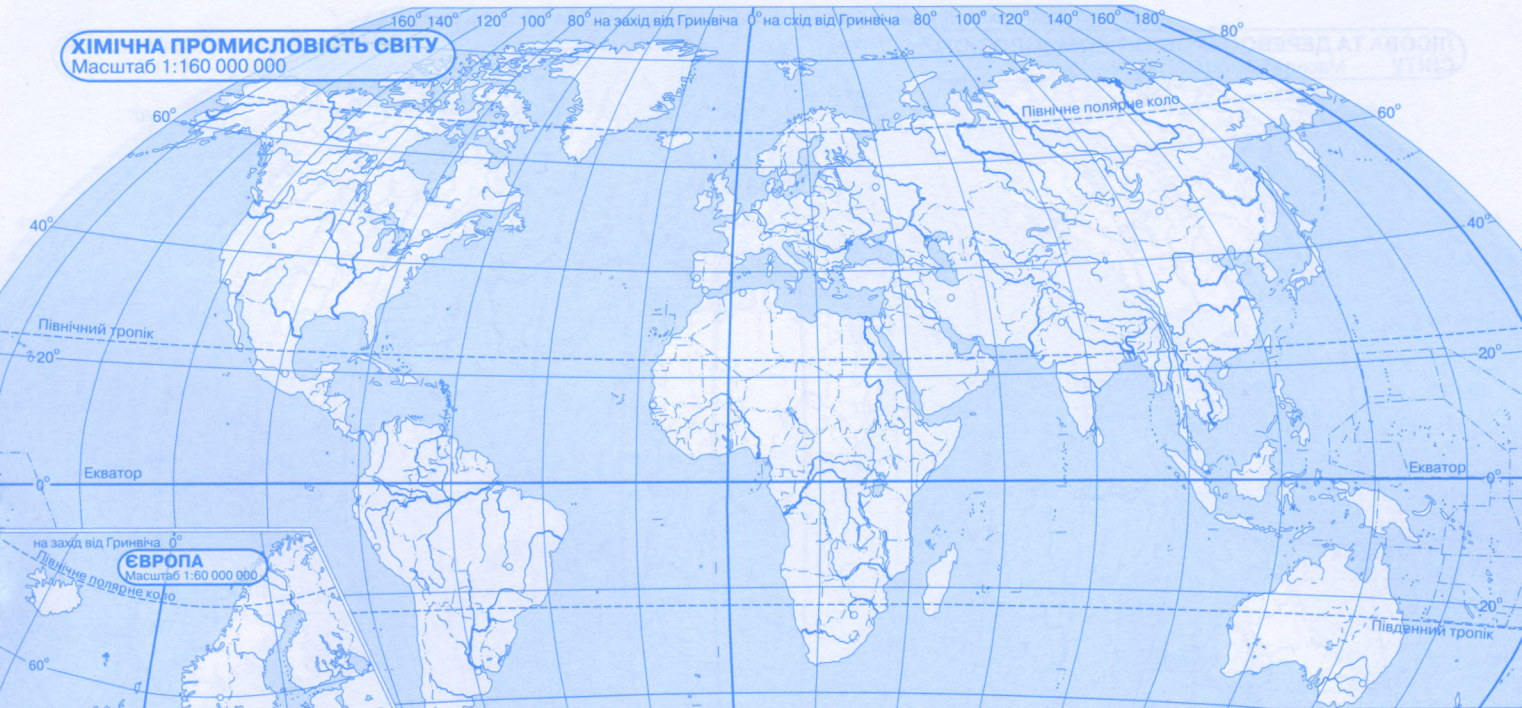
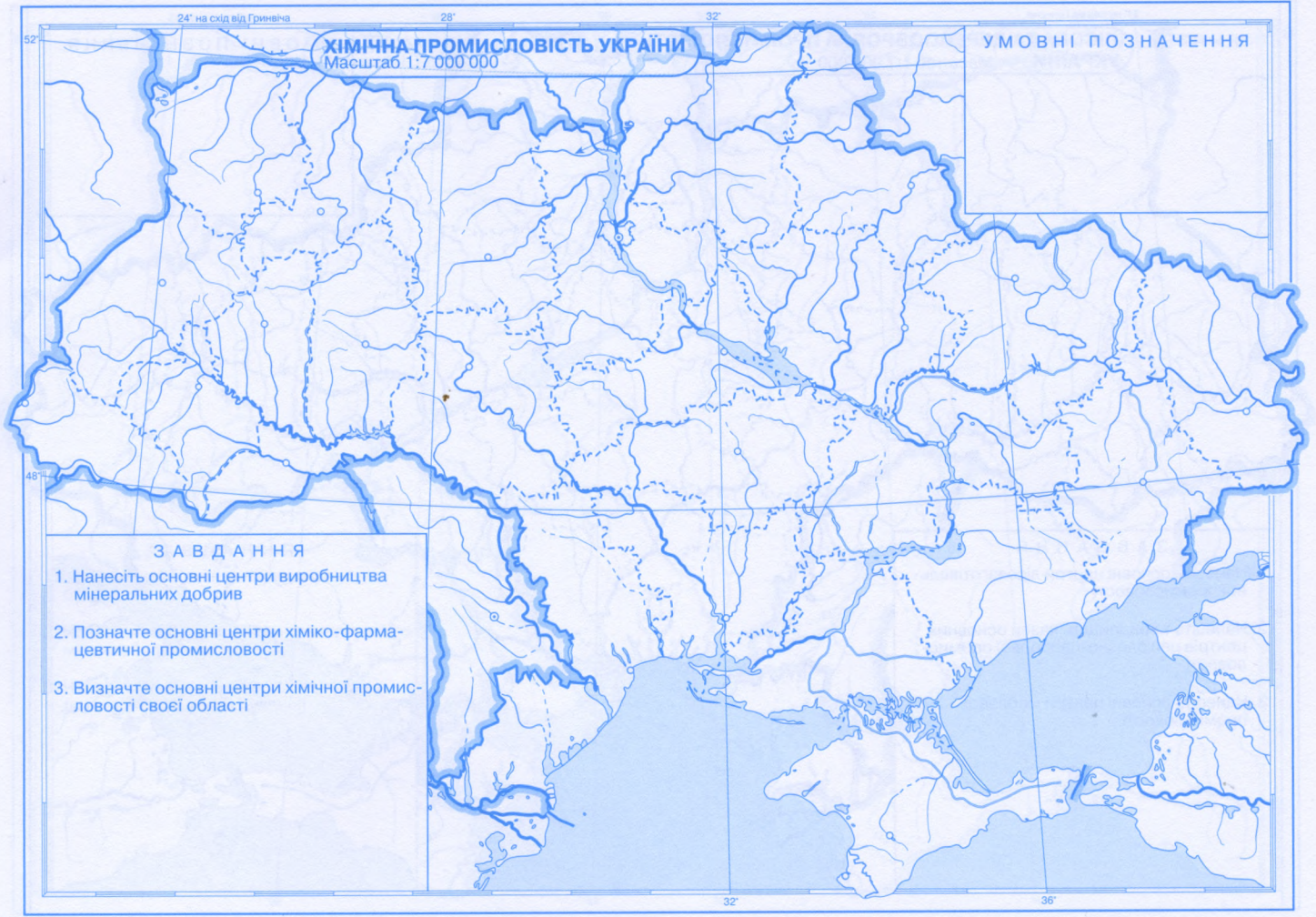
УМОВНІ ПОЗНАЧЕННЯ

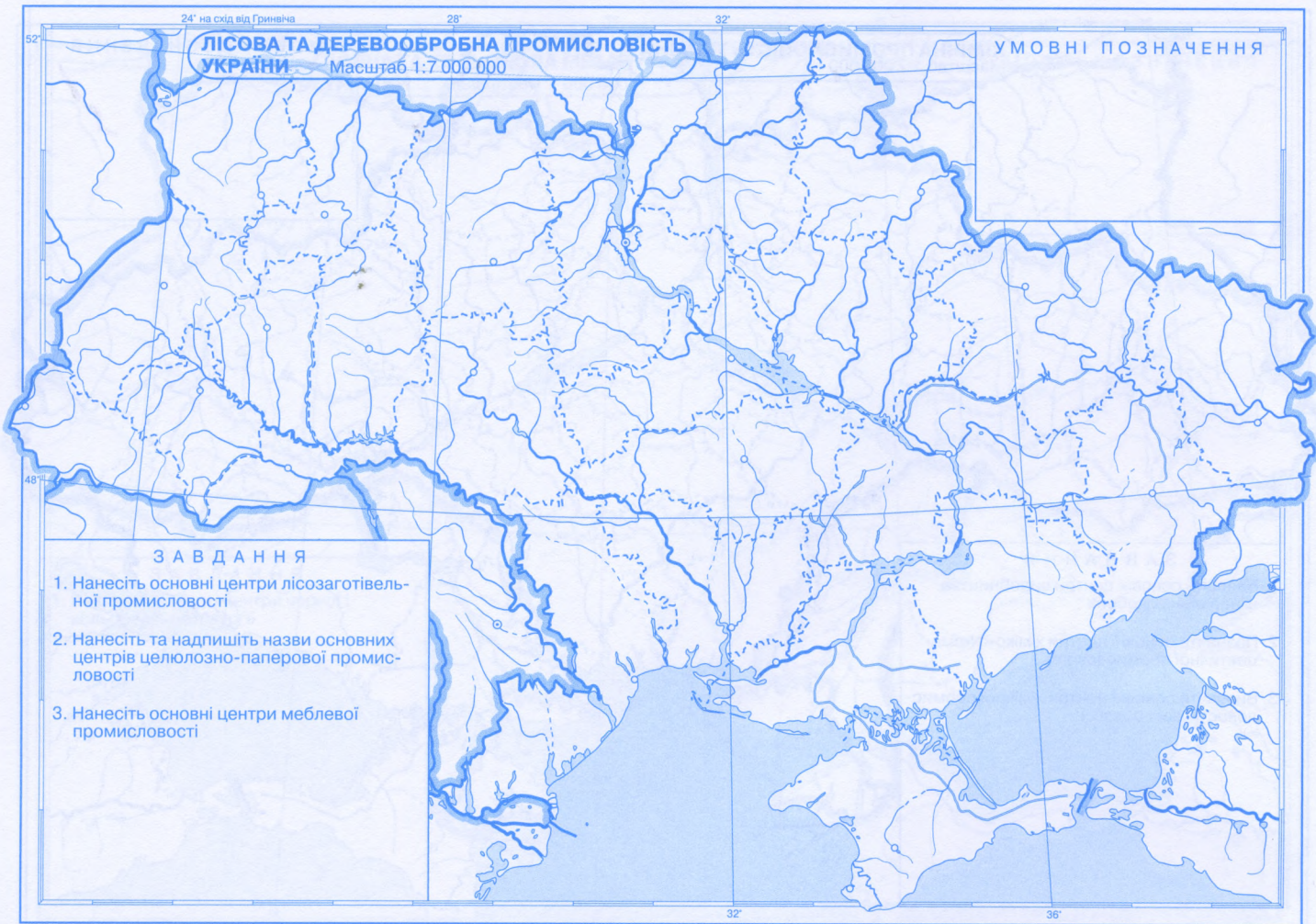


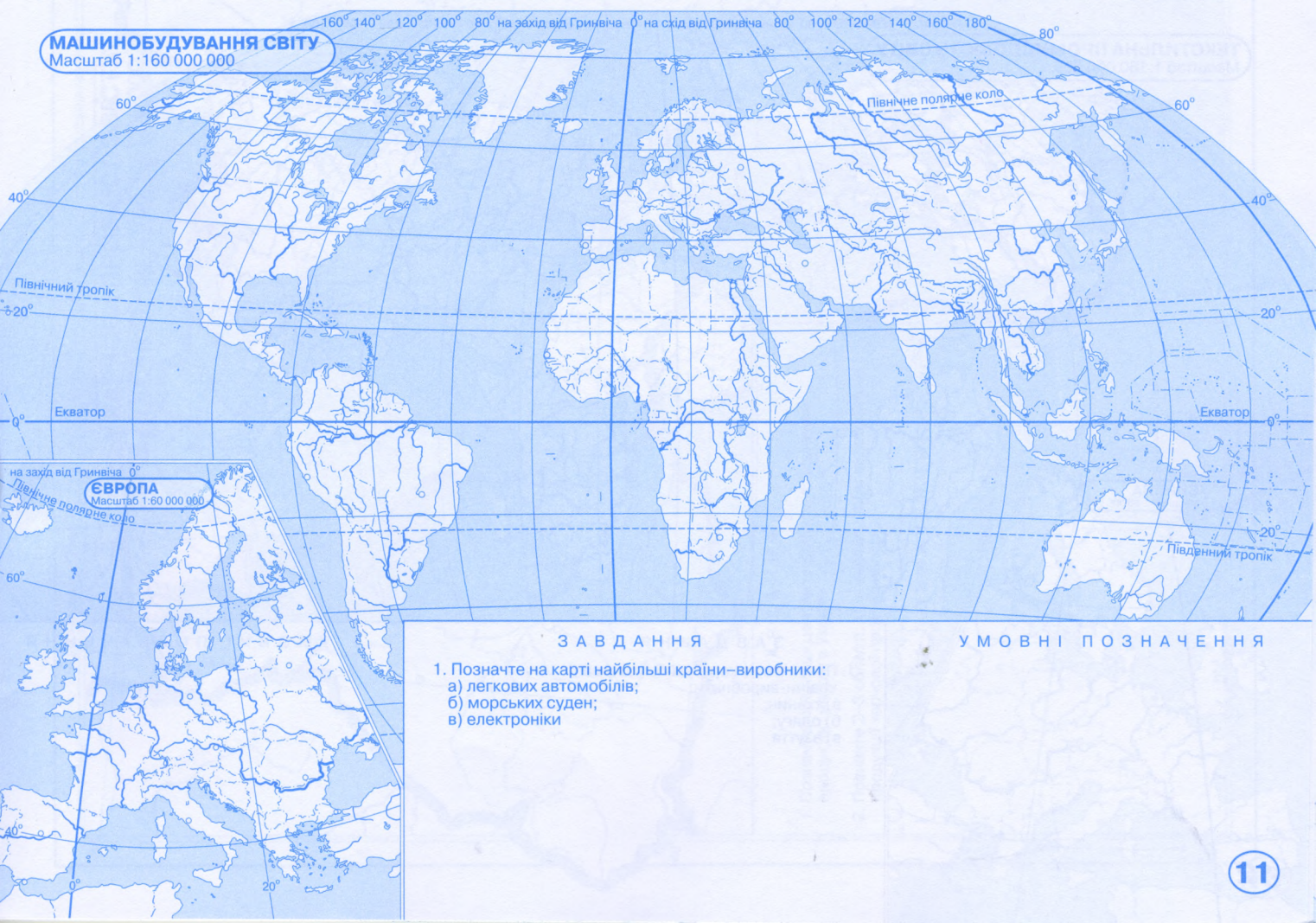
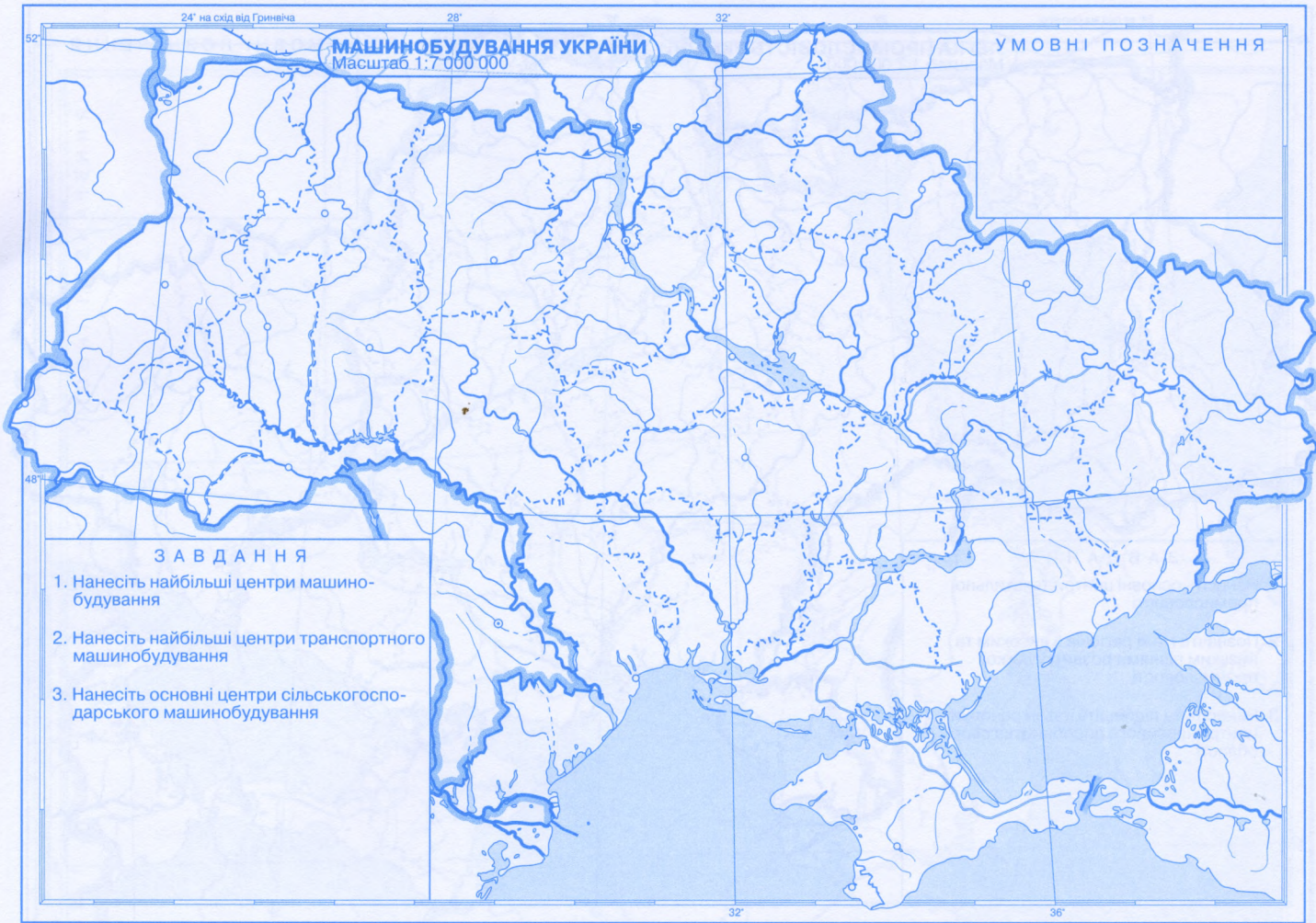


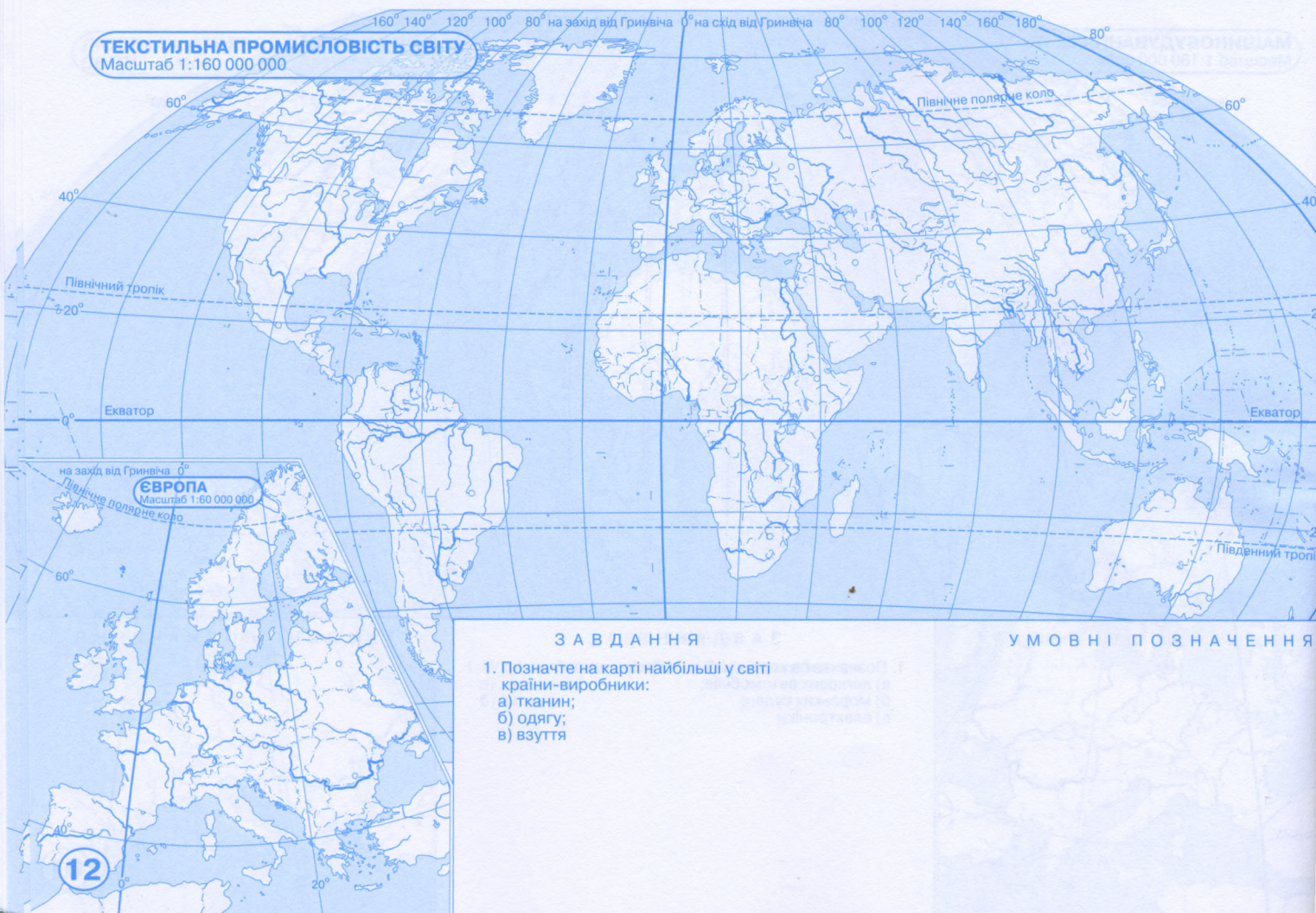
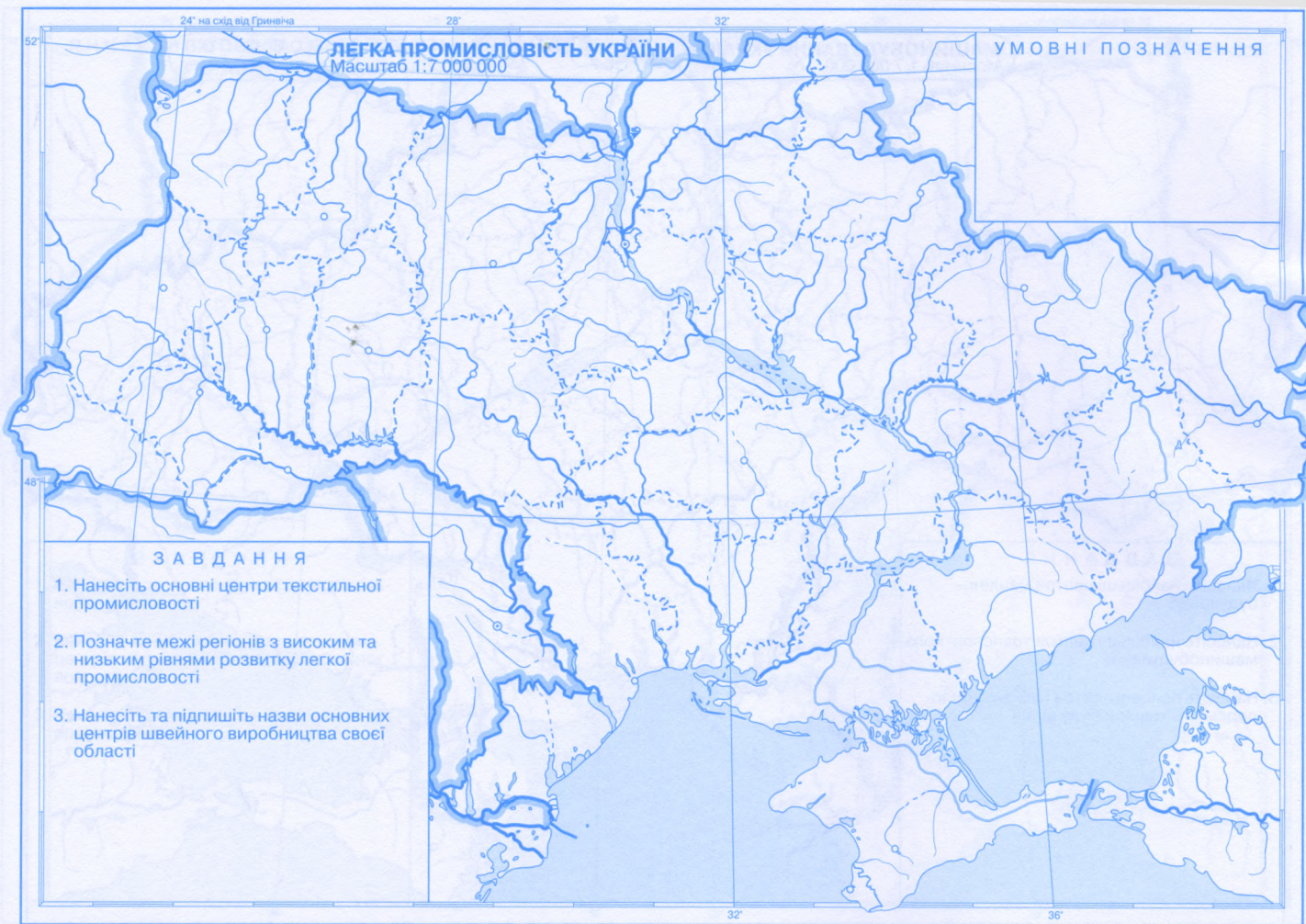
ЗАВДАННЯ
1. Позначте на карті центри чорної і кольорової металургії











24° на схід від Гринвіча

28°

32°

36°

ХАРЧОВА ПРОМИСЛОВІСТЬ УКРАЇНИ

Масштаб 1:5 000 000

УМОВНІ ПОЗНАЧЕННЯ

ЗАВДАННЯ

1. Позначте найбільші центри виробництва харчових продуктів і напоїв в Україні
2. Позначте 2–3 області, які є найбільшими виробниками продукції харчової промисловості

УМОВНІ ПОЗНАЧЕННЯ

32°

36°

24° на схід від Гринвіча

28°

32°

36°

ТРАНСПОРТНА СИСТЕМА УКРАЇНИ Масштаб 1:5 000 000

УМОВНІ ПОЗНАЧЕННЯ

ЗАВДАННЯ

1. Нанесіть основні залізниці та міжнародні автомобільні шляхи держави
2. Нанесіть основні морські та річкові порти
3. Нанесіть основні транспортні вузли своєї області. Позначте їхню структуру перевезень за видами транспорту

32°

36°

ТРАНСПОРТ СВІТУ
Масштаб 1:120 000 000



ЗАВДАННЯ

1. Нанесіть на карту три держави, у яких за вантажообігом переважає морський транспорт (за вибором)
2. Нанесіть на карту п'ять держав, у яких за вантажообігом переважає залізничний транспорт (за вибором)
3. Нанесіть на карту п'ять держав, у яких за вантажообігом переважає автомобільний транспорт (за вибором)
4. Нанесіть на карту:
а) найважливіші морські шляхи;
б) найважливіші морські канали

УМОВНІ ПОЗНАЧЕННЯ



ЗАВДАННЯ

1. Нанесіть на карту регіони, які на Вашу думку, мають найбільш сприятливі умови для відпочинку
2. Нанесіть на карту десять найвідоміших на Вашу думку туристичних об'єктів світу
3. Нанесіть на карту п'ять держав (на вибір), які на Вашу думку, виділяються за кількістю визначних туристичних об'єктів за даними Світової спадщини ЮНЕСКО та є основними регіонами міжнародного туризму
4. Нанесіть на карту держави Європи, територією яких проходить Геодезична дуга Струве

УМОВНІ ПОЗНАЧЕННЯ

24° на схід від Гринвіча

28°

32°

36°

52°

ТУРИЗМ В УКРАЇНІ

Масштаб 1:5 000 000

УМОВНІ ПОЗНАЧЕННЯ

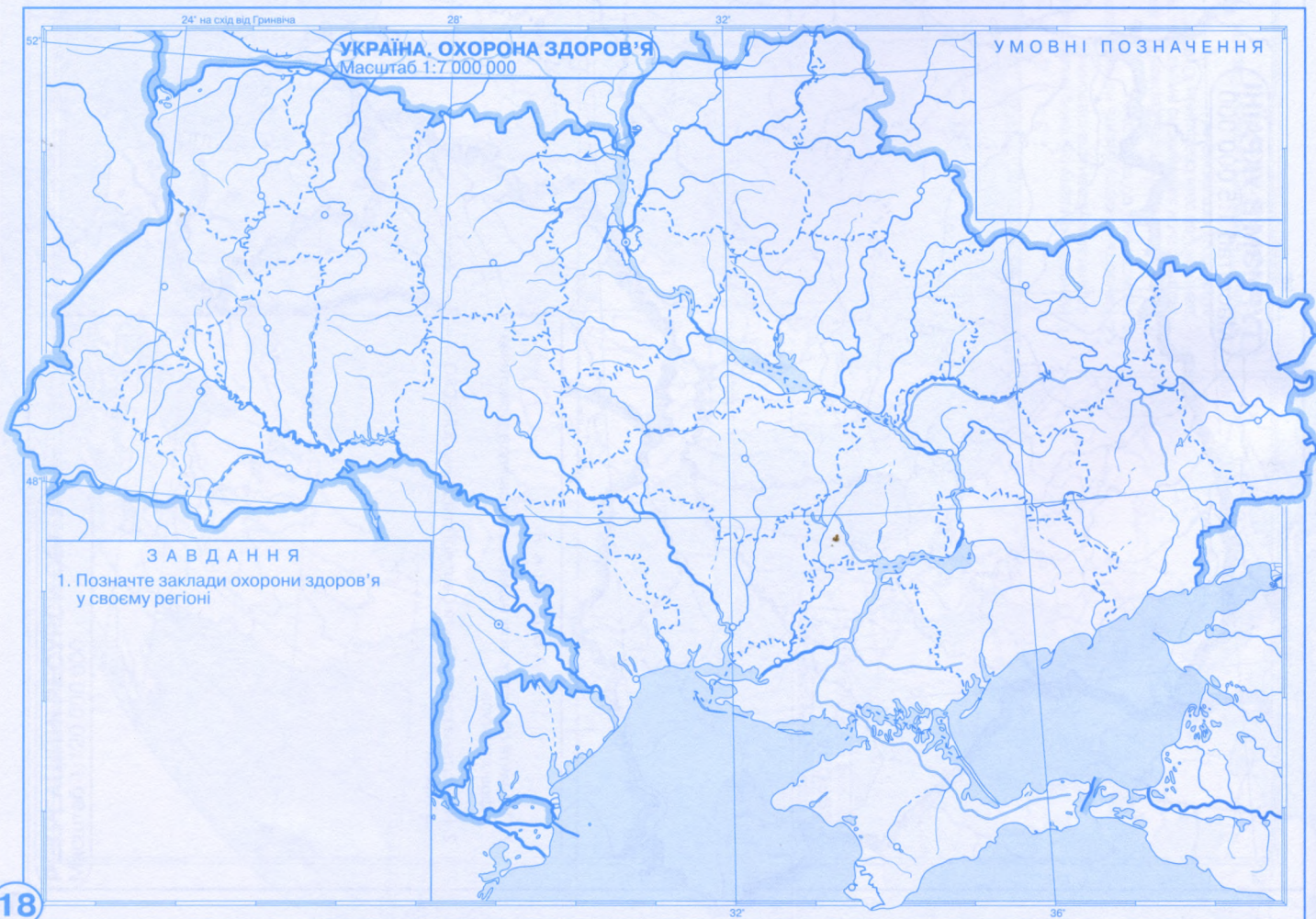
48°

ЗАВДАННЯ

1. Позначте області, в яких найбільше розвинута туристична інфраструктура
2. Нанесіть на карту об'єкти Світової спадщини ЮНЕСКО в Україні

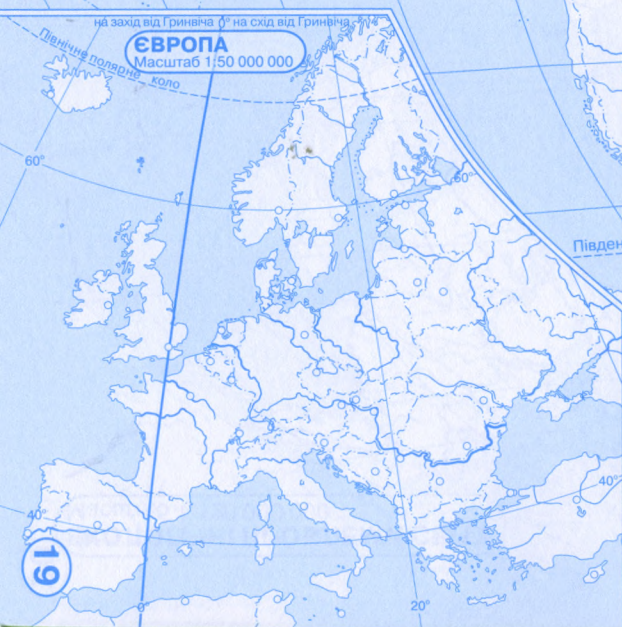
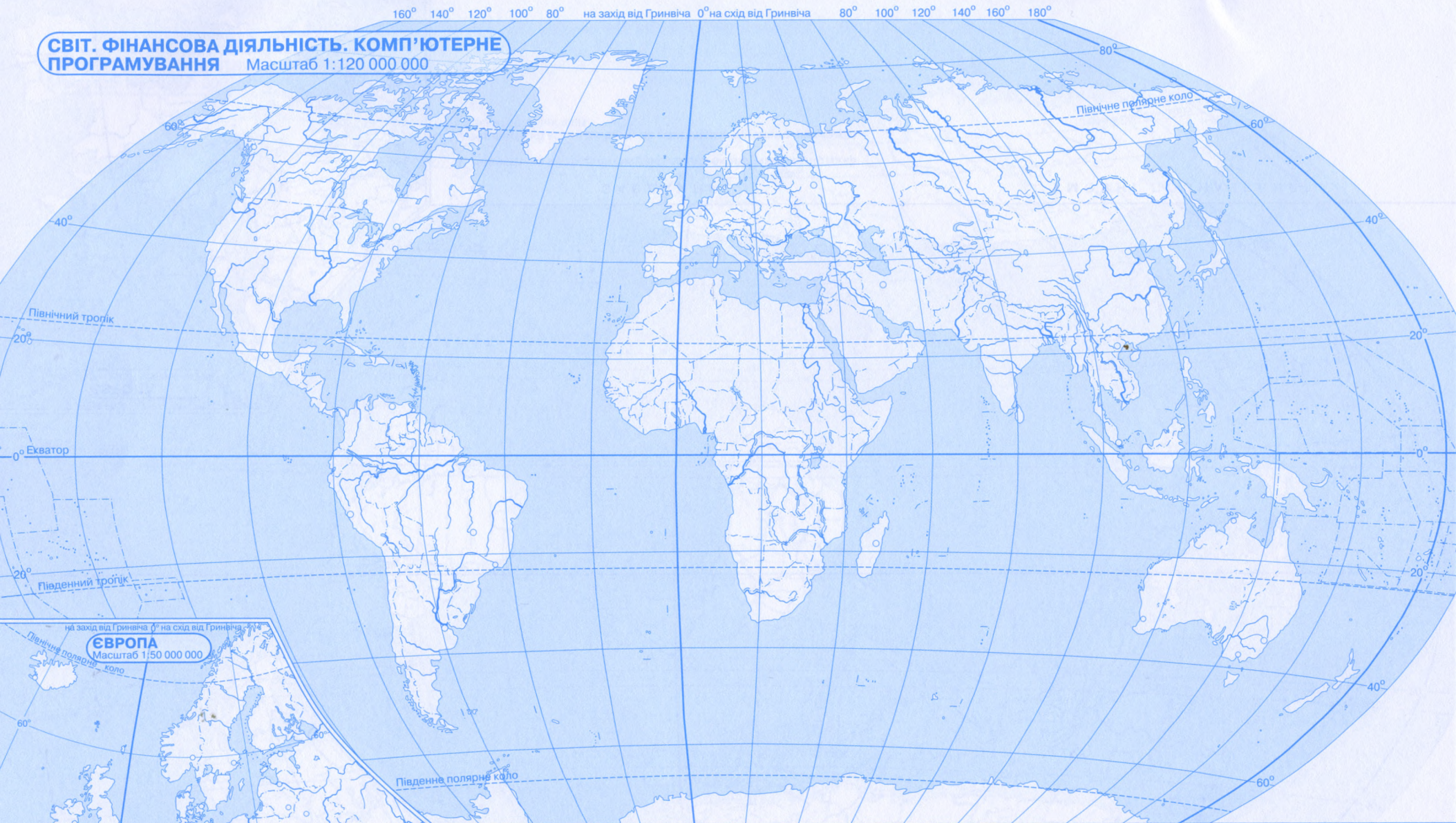
32°

36°



СВІТ. ФІНАНСОВА ДІЯЛЬНІСТЬ. КОМП'ЮТЕРНЕ ПРОГРАМУВАННЯ

Масштаб 1:120 000 000

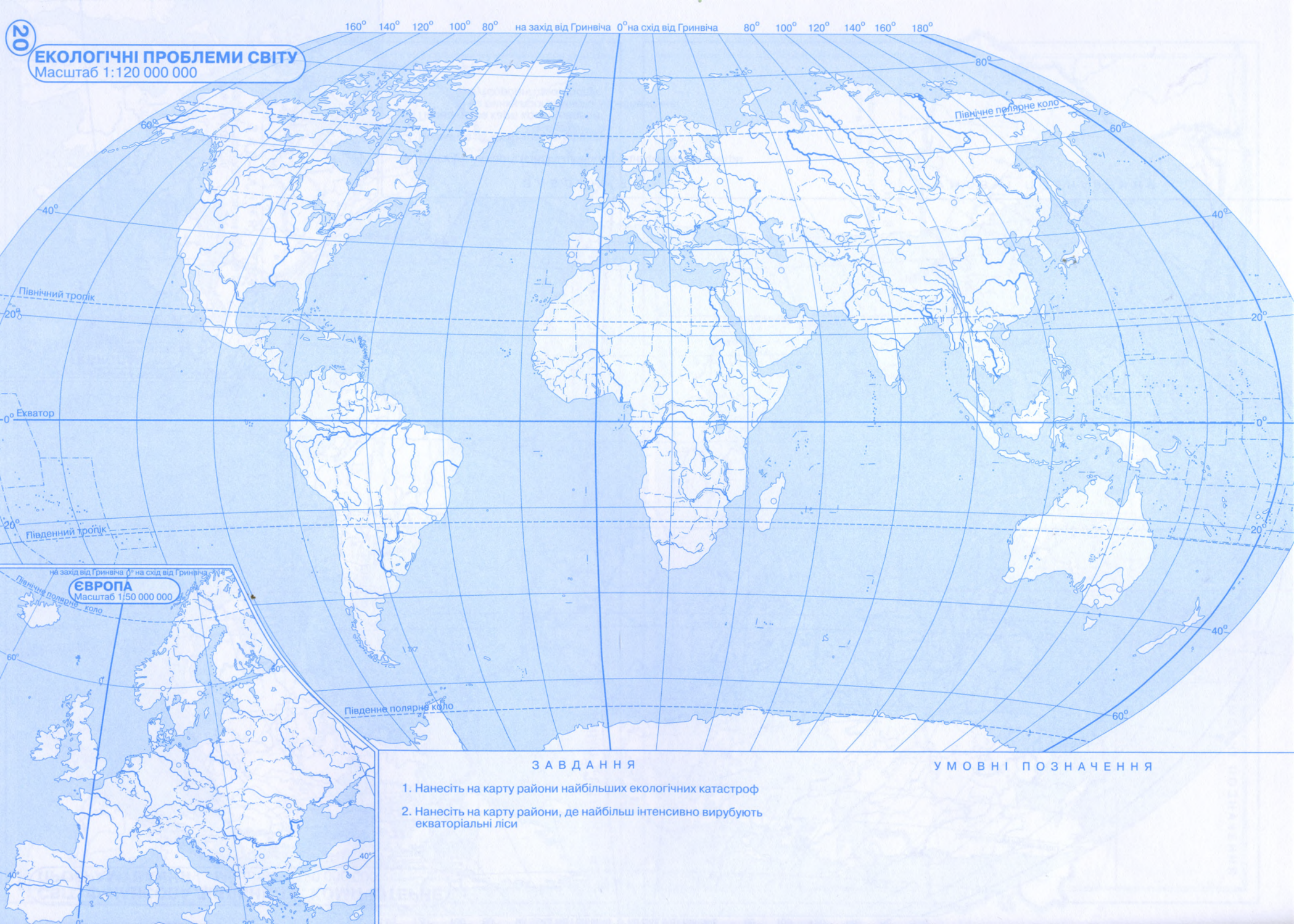


ЄВРОПА
Масштаб 1:50 000 000

ЗАВДАННЯ

1. Нанесіть на карту найбільші міжнародні фінансові центри
2. Позначте на карті країни-офшори
3. Позначте на карті країни-лідери:
 - а) на ринку програмного забезпечення;
 - б) аутсорсингових послуг

УМОВНІ ПОЗНАЧЕННЯ



ЗАВДАННЯ

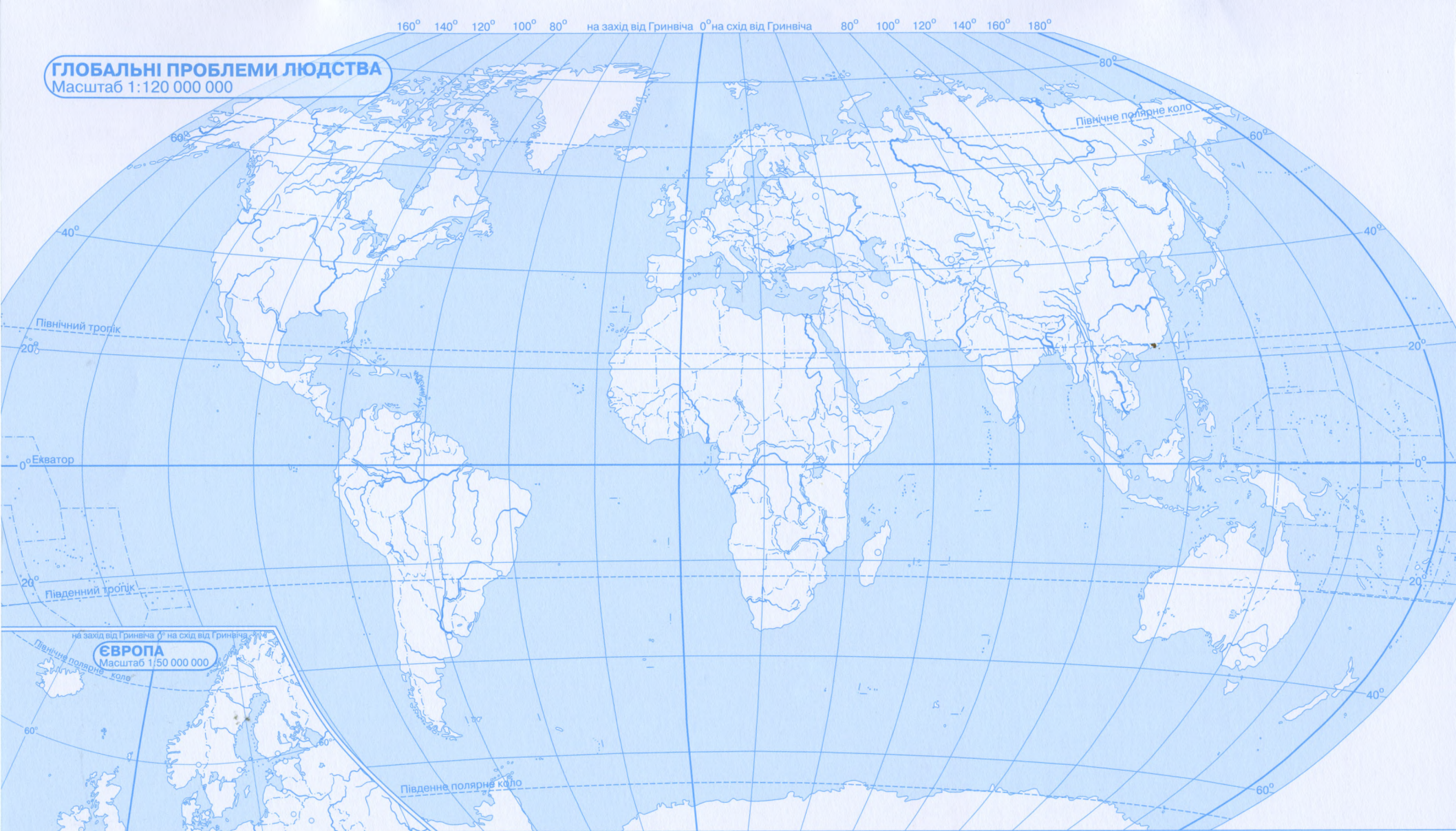
1. Нанесіть на карту райони найбільших екологічних катастроф
2. Нанесіть на карту райони, де найбільш інтенсивно вирубують екваторіальні ліси

УМОВНІ ПОЗНАЧЕННЯ

160° 140° 120° 100° 80° на захід від Гринвіча 0° на схід від Гринвіча 80° 100° 120° 140° 160° 180°

ГЛОБАЛЬНІ ПРОБЛЕМИ ЛЮДСТВА

Масштаб 1:120 000 000



ЄВРОПА

Масштаб 1:50 000 000

ЗАВДАННЯ

1. Позначте території, де за останнє десятиріччя відбувалися військові конфлікти
2. Нанесіть на карту райони, де найбільш загострені демографічні проблеми:
 - а) зростання населення;
 - б) зменшення природного приросту
3. Нанесіть на карту країни:
 - а) в яких гостро стоїть продовольча проблема;
 - б) не забезпечені енергоносіями

УМОВНІ ПОЗНАЧЕННЯ

З М І С Т

Сторінки	Масштаби	Сторінки	Масштаби
ТИПИ КРАЇН СВІТУ	1:120 000 000	ЄВРОПА	1:60 000 000
ЄВРОПА	1:50 000 000	11 МАШИНОБУДУВАННЯ УКРАЇНИ	1:7 000 000
1 СІЛЬСЬКЕ ГОСПОДАРСТВО УКРАЇНИ	1:5 000 000	МАШИНОБУДУВАННЯ СВІТУ	1:160 000 000
2 РОСЛИНИЦТВО СВІТУ	1:120 000 000	ЄВРОПА	1:60 000 000
ЄВРОПА	1:50 000 000	12 ЛЕГКА ПРОМИСЛОВІСТЬ УКРАЇНИ	1:7 000 000
3 ТВАРИНИЦТВО СВІТУ	1:120 000 000	ТЕКСТИЛЬНА ПРОМИСЛОВІСТЬ СВІТУ	1:160 000 000
ЄВРОПА	1:50 000 000	ЄВРОПА	1:60 000 000
4 ЗЕМЕЛЬНІ, ЛІСОВІ ТА ВОДНІ РЕСУРСИ СВІТУ	1:120 000 000	13 ХАРЧОВА ПРОМИСЛОВІСТЬ УКРАЇНИ	1:5 000 000
ЄВРОПА	1:50 000 000	14 ТРАНСПОРТНА СИСТЕМА УКРАЇНИ	1:5 000 000
5 МІНЕРАЛЬНО-СИРОВИННІ РЕСУРСИ УКРАЇНИ	1:5 000 000	15 ТРАНСПОРТ СВІТУ	1:120 000 000
6 МІНЕРАЛЬНО-СИРОВИННІ РЕСУРСИ СВІТУ	1:120 000 000	ЄВРОПА	1:50 000 000
ЄВРОПА	1:50 000 000	16 РЕКРЕАЦІЙНІ РЕСУРСИ СВІТУ	1:120 000 000
7 ЕЛЕКТРОЕНЕРГЕТИКА УКРАЇНИ	1:7 000 000	ЄВРОПА	1:50 000 000
ЕЛЕКТРОЕНЕРГЕТИКА СВІТУ	1:160 000 000	17 ТУРИЗМ В УКРАЇНІ	1:5 000 000
ЄВРОПА	1:60 000 000	18 УКРАЇНА. ЗАКЛАДИ ОСВІТИ	1:7 000 000
8 ЧОРНА ТА КОЛЬОРОВА МЕТАЛУРГІЯ УКРАЇНИ	1:7 000 000	УКРАЇНА. ОХОРОНА ЗДОРОВ'Я	1:7 000 000
ЧОРНА ТА КОЛЬОРОВА МЕТАЛУРГІЯ СВІТУ	1:160 000 000	19 СВІТ. ФІНАНСОВА ДІЯЛЬНІСТЬ. КОМП'ЮТЕРНЕ ПРОГРАМУВАННЯ	1:120 000 000
ЄВРОПА	1:60 000 000	ЄВРОПА	1:50 000 000
9 ХІМІЧНА ПРОМИСЛОВІСТЬ УКРАЇНИ	1:7 000 000	20 ЕКОЛОГІЧНІ ПРОБЛЕМИ СВІТУ	1:120 000 000
ХІМІЧНА ПРОМИСЛОВІСТЬ СВІТУ	1:160 000 000	ЄВРОПА	1:50 000 000
ЄВРОПА	1:60 000 000	ГЛОБАЛЬНІ ПРОБЛЕМИ ЛЮДСТВА	1:120 000 000
10 ЛІСОВА ТА ДЕРЕВООБРОБНА ПРОМИСЛОВІСТЬ УКРАЇНИ	1:7 000 000	ЄВРОПА	1:50 000 000
ЛІСОВА ТА ДЕРЕВООБРОБНА ПРОМИСЛОВІСТЬ СВІТУ	1:160 000 000		

КАРТОГРАФІЯ



Україна і світове господарство

9
клас



РЕКОМЕНДОВАНО МІНІСТЕРСТВОМ ОСВІТИ І НАУКИ УКРАЇНИ
(лист №1/11-4156 від 28.04.2017)

Контурні карти відповідають санітарному законодавству України
(висновок № 602-123-20-1/5859 від 20.02.2018)

ДЕРЖАВНЕ НАУКОВО-ВИРОБНИЧЕ ПІДПРИЄМСТВО «КАРТОГРАФІЯ»

вул. Попудренка, 54, м. Київ-94, 02094
Свідоцтво суб'єкта видавничої справи
ДК № 398 від 03.04.2001

Редактори: С.В. Капустенко, В.І. Остроух
Технічний редактор С.М. Полторако
Дизайн обкладинки О.В. Христенка

© ДНВП «Картографія», 2017–2021

Формат 62x88 Друк офсетний
Ум. друк. арк. 2,53
Зам. № 04394

Видруковано ТОВ «Новий друк»,
вул. Магнітогорська, 1, м. Київ-94, 02660
Свідоцтво суб'єкта видавничої справи
ДК №1447 від 28.07.2003

ISBN 978-966-946-303-6



9 789669 463036 >