

ЄВРОПА в першій половині XVI ст.

170 км

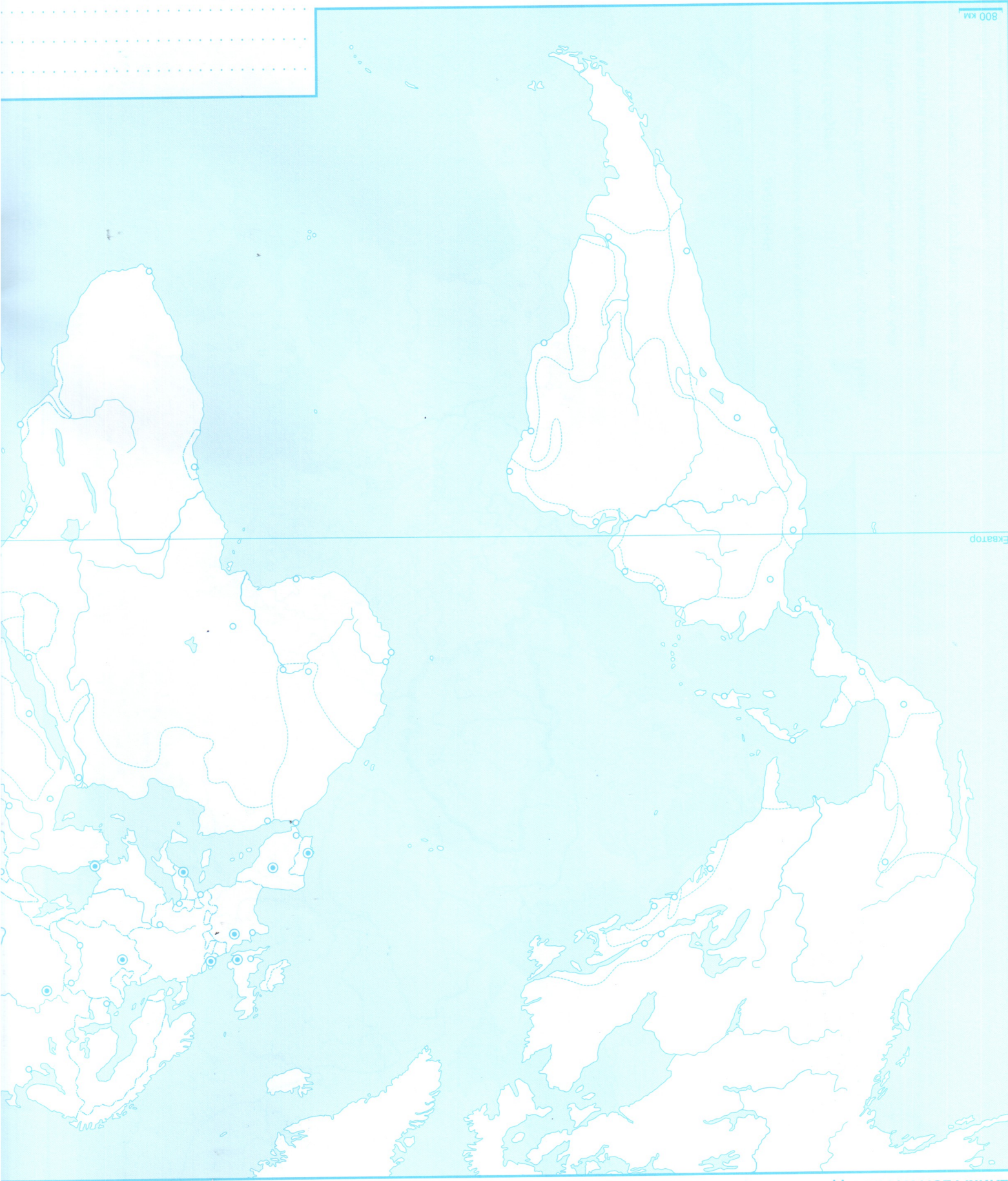


ЗАВДАННЯ

1. Зафарбуйте різніми кольорами володіння іспанської та австрійської гілок династії Габсбургів.
2. Надпишіть назви міст: Мадрид, Париж, Рим, Флоренція, Мілан, Венеція, Неаполь, Лондон, Відень, Краків, Вільно, Київ.
3. Позначте культурні центри доби високого Відродження.
4. Надпишіть назви держав: Іспанія, Португалія, Франція, Англія, Польща, Литва, Османська імперія.

800 KM

Екватор



ВЕЛИКІ ГЕОГРАФІЧНІ ВІДКРИТТЯ, ВИСОКЕ ВІДРОДЖЕННЯ, РЕФОРМАЦІЯ

ВЕЛИКІ ГЕОГРАФІЧНІ ВІДКРИТТЯ КІНЦЯ XV – ПЕРШОЇ ПОЛОВИНИ XVII СТ.

ЗАВДАННЯ

1. Різними кольорами накресліть напрямки: першої подорожі Христофора Колумба, навколосвітньої подорожі Фернана Магеллана, плавання Васко да Гама в Індію.
2. Позначте перший острів, який Колумб відкрив у Новому Світі.
3. Різними кольорами розфарбуйте володіння колоніальних держав: Іспанії, Португалії, Англії, Франції, Нідерландів. Надпишіть назви цих держав.
4. Позначте літерами А, М та І країни ацтеків, майя та інків в Америці, що їх завоювали іспанські конкістадори.
5. Надпишіть назви земель та островів, які відкрили європейці: Нова Франція, Нова Англія, Нова Голландія, Нова Іспанія, Нова Гранада, Нова Ірландія, Нова Гвінея, Філіппінські о-ви, о. Куба, о. Гаїті.
6. Позначте й надпишіть центри світової торгівлі: Амстердам, Лісабон, Венецію, Стамбул, Каїр, Багдад, Ормуз, Аден, Калікут, Малакку, Макао, Манілу.

Екватор

.....

.....

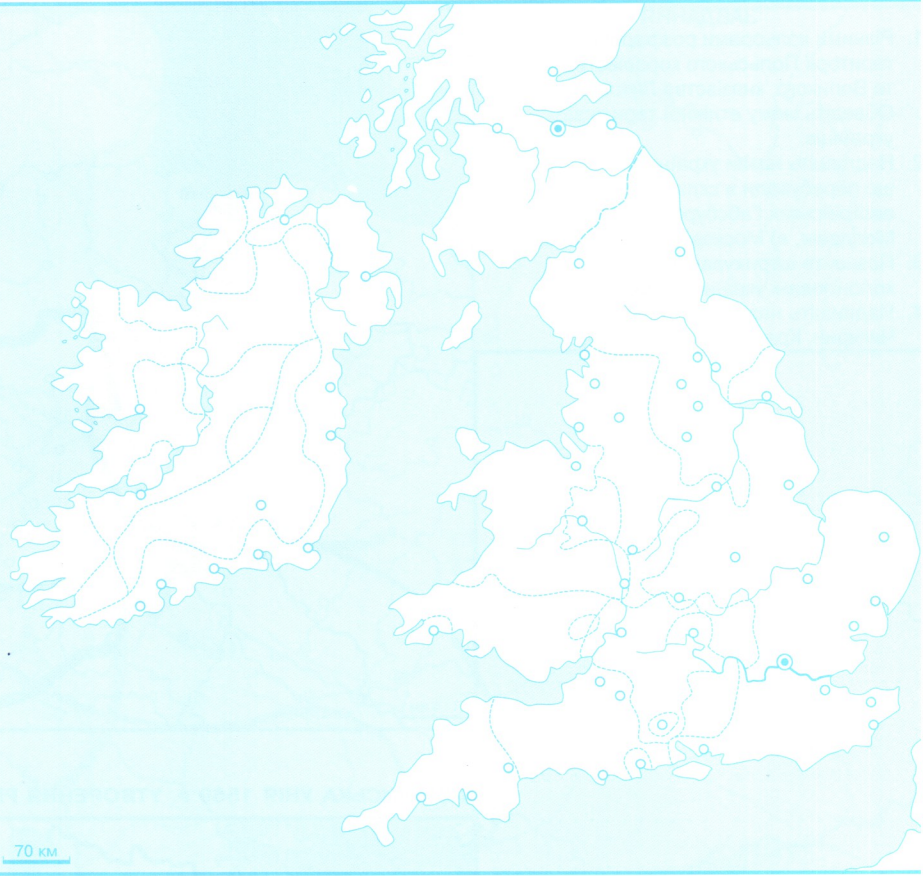
.....

.....

АНГЛІЙСЬКА РЕВОЛЮЦІЯ

ЗАВДАННЯ

1. Зафарбуйте території, на які спирався англійський парламент у 1643 р.
2. Позначте й надпишіть назву міста, біля якого королівське військо зазнало вирішальної поразки від сил парламенту.
3. Зафарбуйте землі, що залишалися вірними королю наприкінці 1645 р.
4. Накресліть походи війська Олівера Кромвелля проти ірландців і шотландців.
5. Позначте штрихуванням землі, які залишили ірландцям після англійського завоювання Ірландії.
6. Надпишіть назви міст: Лондон, Оксфорд, Вустер, Дувр, Кентербері, Йорк, Бристоль, Едмбург, Дублін, Дрогода.



ТРИДЦЯТИЛІТНЯ ВІЙНА (1618–1648 рр.)



ЗАВДАННЯ

1. Розфарбуйте володіння Габсбургів та надпишіть назви держав-союзників Габсбургів: Баварія, Річ Посполита, Кельн, Трир, Майнц.
2. Надпишіть назви держав антигабсбурзької коаліції: Данія, Сполучені Провінції Нідерландів (СПН), Франція, Пфальц.
3. Позначте й надпишіть місце битви, де загинув шведський король Густав Адольф.
4. Надпишіть назви міст: Прага, Відень, Мюнхен, Магдебург, Лейпциг, Берлін, Нюрнберг, Бремен, Мюнстер, Оснабрюк. Позначте міста, де було укладено Вестфальський мир.
5. Різними кольорами зафарбуйте території, що за Вестфальським миром відійшли до: Бранденбургу, Швеції, Франції.
6. Обведіть кордони Священної Римської імперії після війни.

.....

.....

.....

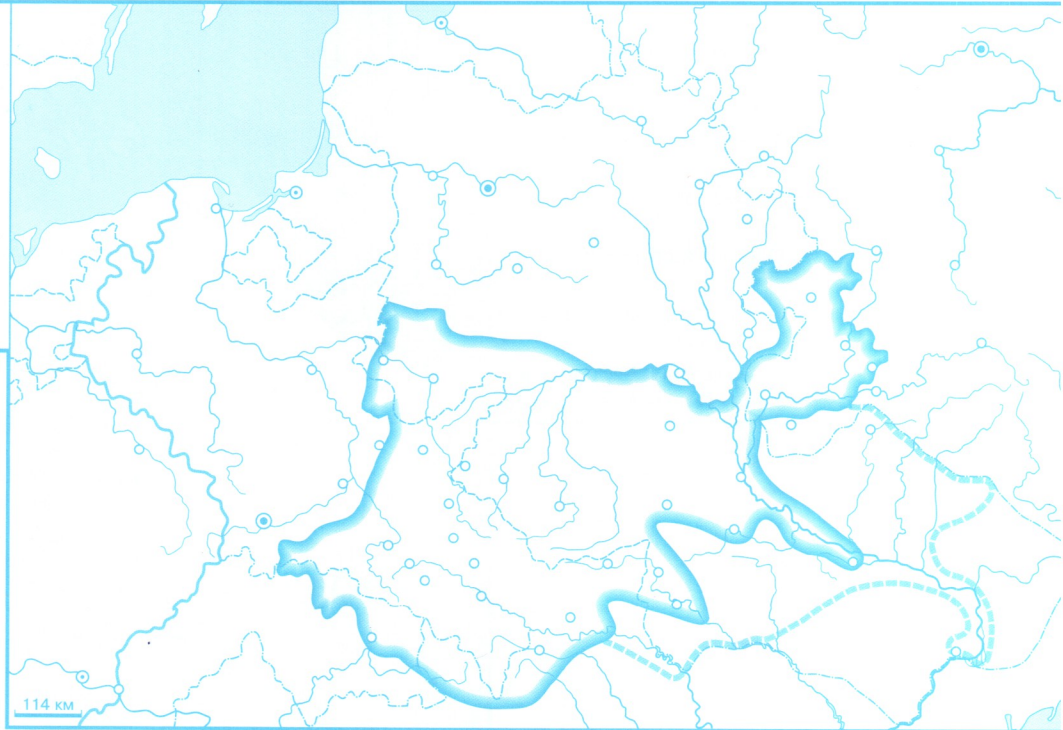
.....

.....

УКРАЇНСЬКІ ЗЕМЛІ в першій половині XVI ст.

ЗАВДАННЯ

1. Різними кольорами розфарбуйте територію Польського королівства та Великого князівства Литовського. Обведіть межу етнічної території українців.
2. Надпишіть назви українських земель, що перебували в складі: а) володінь австрійських Габсбургів, б) князівства Молдавія, в) Московського царства.
3. Позначте штрихуванням землі, колонізовані українськими козаками.
4. Надпишіть назви міст: Львів, Київ, Чигирин, Краків, Вільно, Москва.



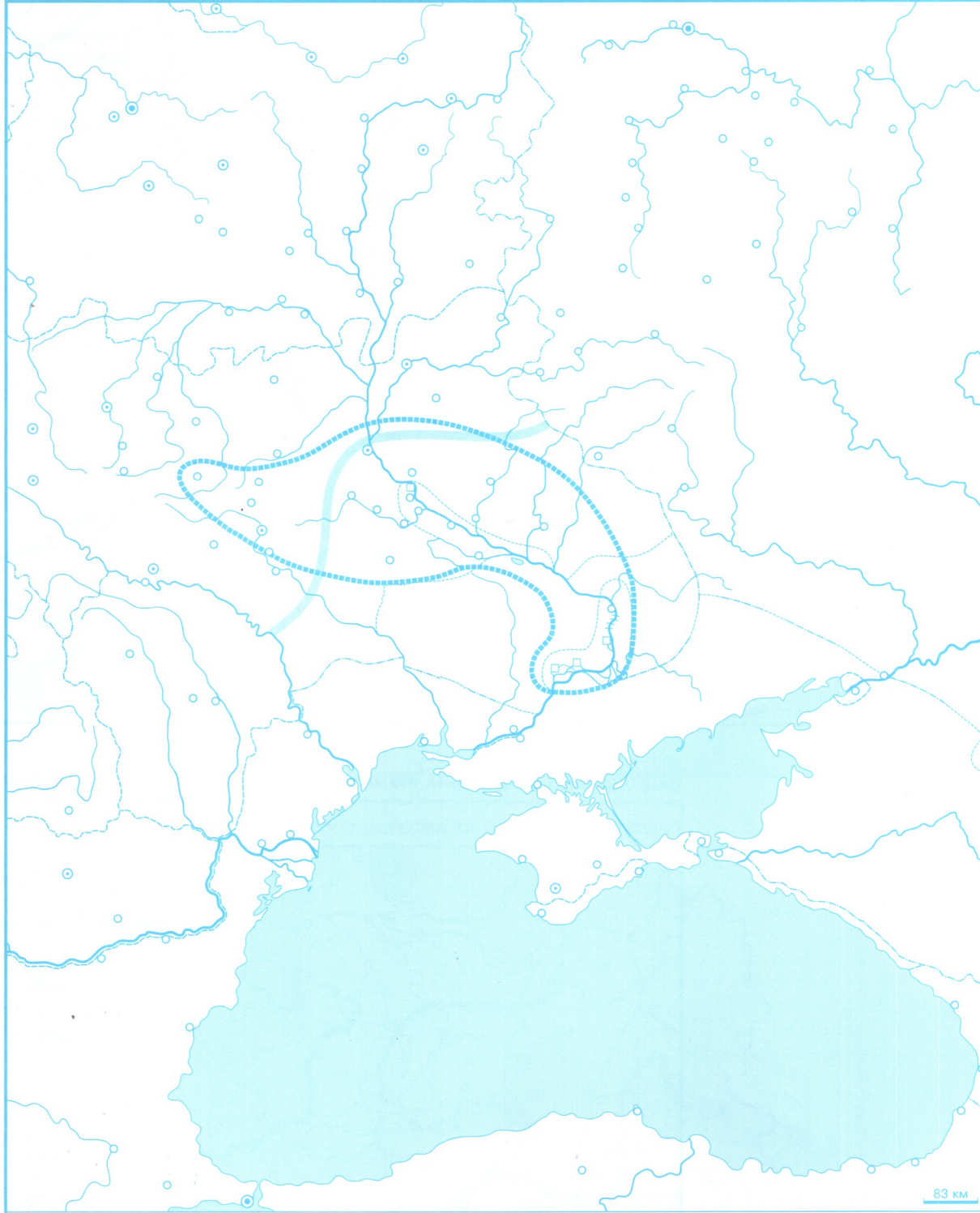
ЛЮБЛІНЬСЬКА УНІЯ 1569 Р. УТВОРЕННЯ РЕЧІ ПОСПОЛИТОЇ

ЗАВДАННЯ

1. Надпишіть назву міста Любліна, поруч укажіть рік укладення Люблінської унії.
2. Окресліть кордони Речі Посполитої в рік укладення Люблінської унії.
3. Розфарбуйте територію, що за Люблінською унією переходила зі складу Литви до складу Польщі.
4. Позначте штрихуванням землі, приєднані до Речі Посполитої за Деулінською угодою з Московським царством.
5. Окресліть межі воєводств Речі Посполитої, утворених на українських землях. Надпишіть назви їхніх центрів.
6. Обведіть кордон між Річчю Посполитою та Московським царством у 1634 р.



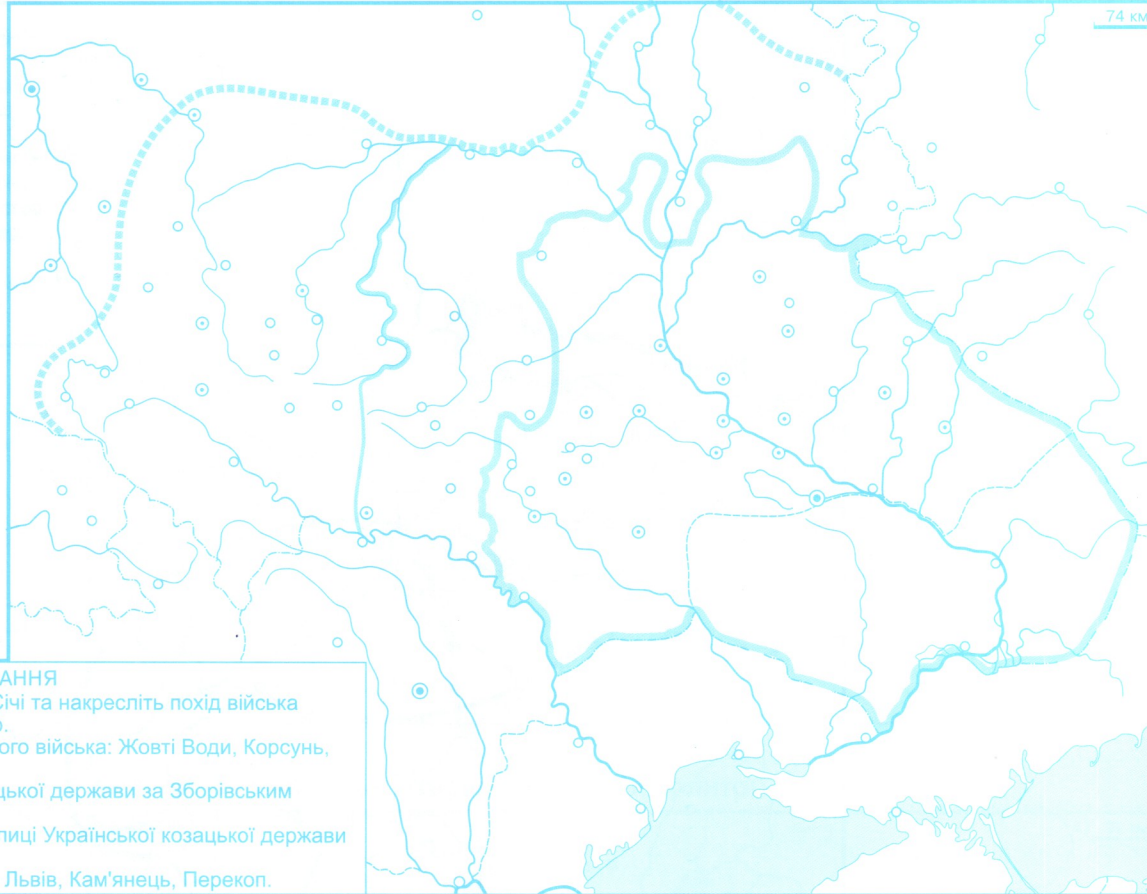
КОЗАЦТВО в XVI – у першій половині XVII ст.



ЗАВДАННЯ

1. Жовтим кольором зафарбуйте територію Запорозжя.
2. Надпишіть річку Дніпро та позначте запорозькі січі, що існували від середини XVI до початку XVII ст.
3. Позначте штрихуванням район реєстрового козацтва й надпишіть назву міста, яке король Стефан Баторій передав у володіння козаків.
4. Позначте стрілками походи Дмитра Вишневецького. Надпишіть назву міста, де він потрапив до турецького полону.
5. Окресліть район козацьких повстань та позначте місця битв на Солониці (Лубни) та біля Курукового озера.
6. Позначте центри козацьких полків, утворених у 1625 р.
7. Накресліть напрямки походів Петра Конашевича-Сагайдачного: на Кафу, на Москву, під Хотин. Позначте роки походів.
8. Надпишіть назви міст: Вишневець, Луцьк, Київ, Переяслав, Москва, Стамбул, Кодак, Бахчисарай.

НАЦІОНАЛЬНО-ВИЗВОЛЬНА ВІЙНА УКРАЇНСЬКОГО НАРОДУ (події 1648–1649 рр.)



ЗАВДАННЯ

1. Надпишіть назву Микитинської Січі та накресліть похід війська Богдана Хмельницького в 1648 р.
2. Позначте місця перемог козацького війська: Жовті Води, Корсунь, Пилявці, Зборів.
3. Окресліть межі Української козацької держави за Зборівським договором.
4. Позначте й надпишіть назви столиці Української козацької держави та центри полків.
5. Надпишіть назви міст: Варшава, Львів, Кам'янець, Перекоп.

НАЦІОНАЛЬНО-ВИЗВОЛЬНА ВІЙНА УКРАЇНСЬКОГО НАРОДУ (події 1650–1651 рр.)



ЗАВДАННЯ

1. Накресліть похід війська Богдана Хмельницького в 1651 р. Надпишіть назву міста Берестечка та вкажи рік битви біля нього.
2. Окресліть межі Української козацької держави за Білоцерківським договором.
3. Позначте й надпишіть назви полкових міст Української козацької держави. Підкресліть назву столиці.

УКРАЇНА В 1667–1687 РР. ДОБА РУЇНИ

ЗАВДАННЯ

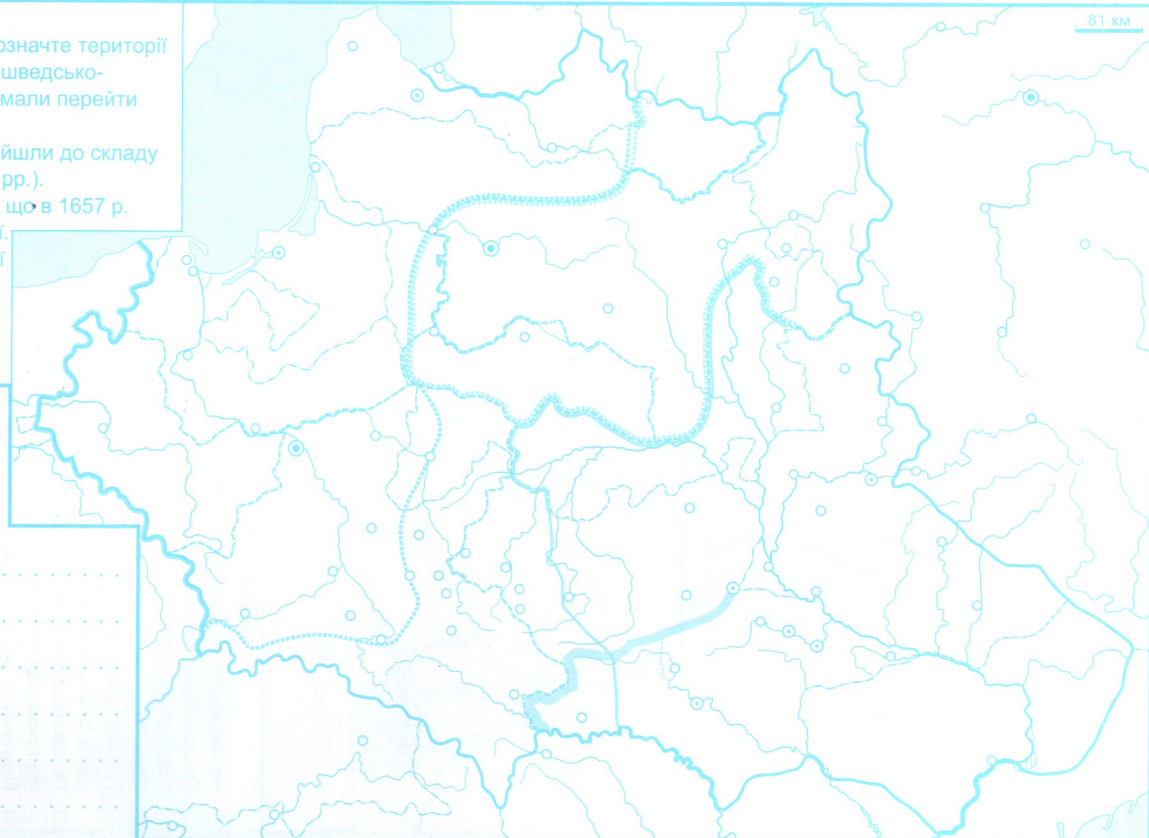
1. Різними кольорами розфарбуйте території Лівобережної та Правобережної Гетьманщини.
2. Накресліть лінію московсько-польського кордону за Андрусівським перемир'ям 1667 р.
3. Обведіть межі Української козацької держави за гетьмана Петра Дорошенка (у 1668 р.). Позначте й надпишіть назву її столиці.
4. Надпишіть назву території, що за Бучацьким миром 1672 р. переходила до складу Османської імперії.
5. Накресліть чигиринський похід османського війська в 1678 р. Позначте й надпишіть столицю Лівобережної Гетьманщини.
6. Надпишіть назви міст: Кам'янець, Київ, Корсунь, Немирів, Бахчисарай.

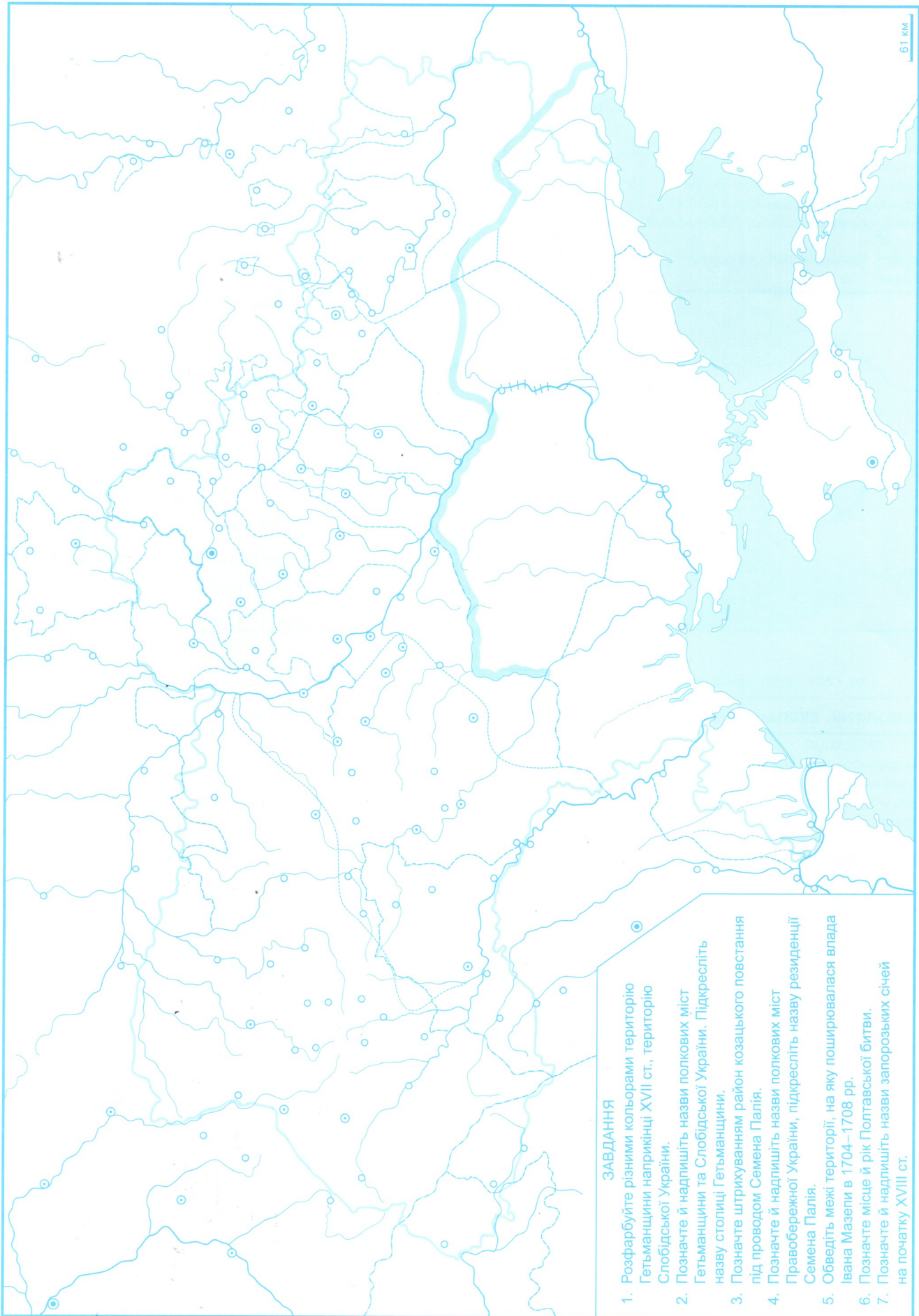


КРИЗА В РЕЧІ ПОСПОЛИТІЙ. ЕКСПАНСІЯ ШВЕЦІЇ, МОСКОВЬСЬКОГО ЦАРСТВА ТА ОСМАНСЬКОЇ ІМПЕРІЇ

ЗАВДАННЯ

1. Різнокольоровим штрихуванням позначте території Речі Посполитої, що за українсько-шведсько-трансильванською угодою 1656 р. мали перейти до складу цих держав.
2. Позначте межу територій, що перейшли до складу Московського царства (1667, 1686 рр.).
3. Зафарбуйте територію герцогства, що в 1657 р. вийшло з-під опіки Речі Посполитої.
4. Окресліть кордони Речі Посполитої наприкінці XVII ст.
5. Надпишіть назви міст: Варшава, Вільно, Київ, Батурин, Чигирин, Кам'янець, Львів.



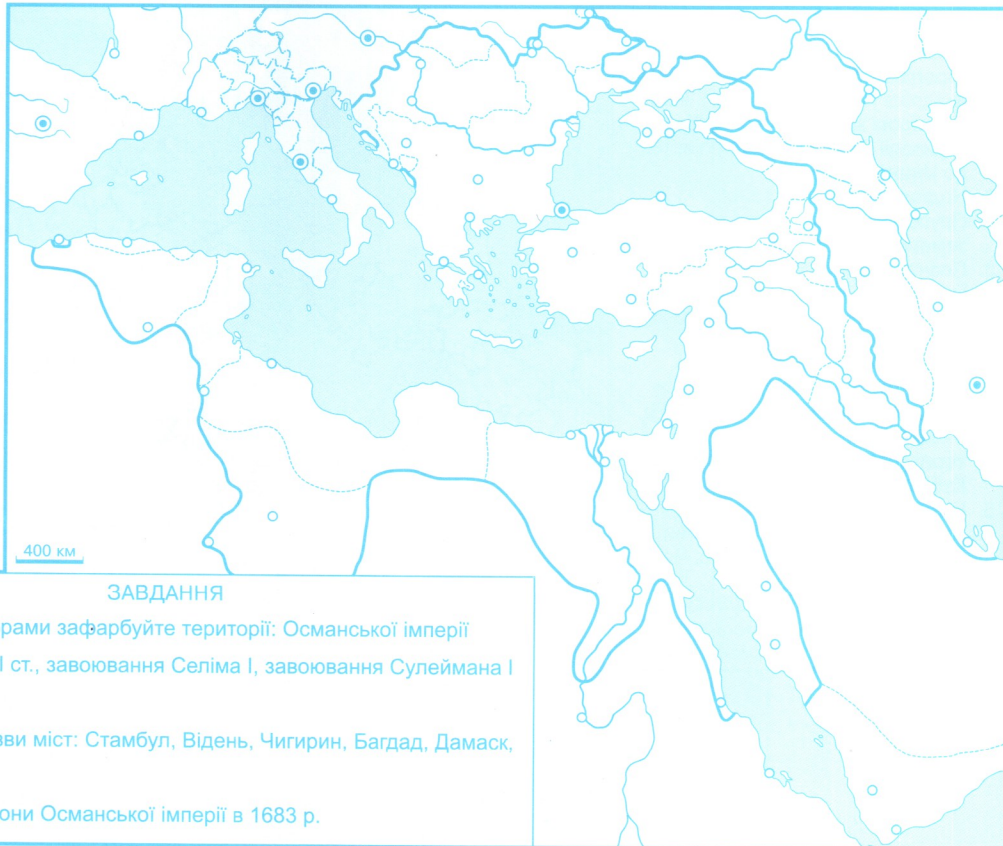


ЗАВДАННЯ

1. Розфарбуйте різними кольорами територію Гетьманщини наприкінці XVII ст., територію Слобідської України.
2. Позначте й надпишіть назви полкових міст Гетьманщини та Слобідської України. Підкресліть назву столиці Гетьманщини.
3. Позначте штрихуванням район козацького повстання під проводом Семена Палія.
4. Позначте й надпишіть назви полкових міст Правобережної України, підкресліть назву резиденції Семена Палія.
5. Обведіть межі території, на яку поширювалася влада Івана Мазепи в 1704–1708 рр.
6. Позначте місце й рік Полтавської битви.
7. Позначте й надпишіть назви запорозьких січей на початку XVIII ст.

61 км

ОСМАНСЬКА ІМПЕРІЯ



ЗАВДАННЯ

1. Різними кольорами зафарбуйте території: Османської імперії на початку XVI ст., завоювання Селіма I, завоювання Сулеймана I Пишного.
2. Надпишіть назви міст: Стамбул, Відень, Чигирин, Багдад, Дамаск, Каїр.
3. Обведіть кордони Османської імперії в 1683 р.

МОСКОВСЬКЕ ЦАРСТВО В XVI – НА ПОЧАТКУ XVII СТ. ІВАН IV



ЗАВДАННЯ

1. Зафарбуйте територію Московської держави в 1533 р.
2. Іншим кольором розфарбуйте території татарських ханатів, що їх завоювали московські війська за правління Івана IV.
3. Позначте території, втрачені Московським царством за правління Івана IV.
4. Окресліть західний кордон Московського царства в 1618 р.
5. Позначте штрихуванням землі, приєднані до Московського царства на сході наприкінці XVI – на початку XVII ст.
6. Надпишіть назви міст: Москва, Новгород, Смоленськ, Чернігів, Київ, Казань, Астрахань.

АВСТРІЙСЬКА МОНАРХІЯ ГАБСБУРГІВ І КОРОЛІВСТВО ПРУССІЯ

ЗАВДАННЯ

1. Зафарбуйте територію Пруського королівства наприкінці правління Фрідріха II (1740–1786 рр.). Іншим кольором зафарбуйте прирощення території Пруського королівства до кінця XVIII ст.
2. Надпишіть назву столиці Пруського королівства та назви земель: Бранденбург і Пруссія.
3. Позначте штрихуванням і надпишіть назву землі, що була приєднана до Пруського королівства внаслідок війни за австрійську спадщину.
4. Зафарбуйте володіння австрійських Габсбургів у 1525 р. Іншим кольором позначте територію Австрійської монархії Габсбургів у 1780 р.
5. Надпишіть назву столиці Австрійської монархії та назви земель: Австрія, Угорщина, Чехія, Нідерланди.
6. Червоним кольором надпишіть назви українських земель у складі Австрійської монархії Габсбургів.



ТЕРИТОРІАЛЬНЕ ЗРОСТАННЯ РОСІЙСЬКОЇ ДЕРЖАВИ в XV–XVIII ст.

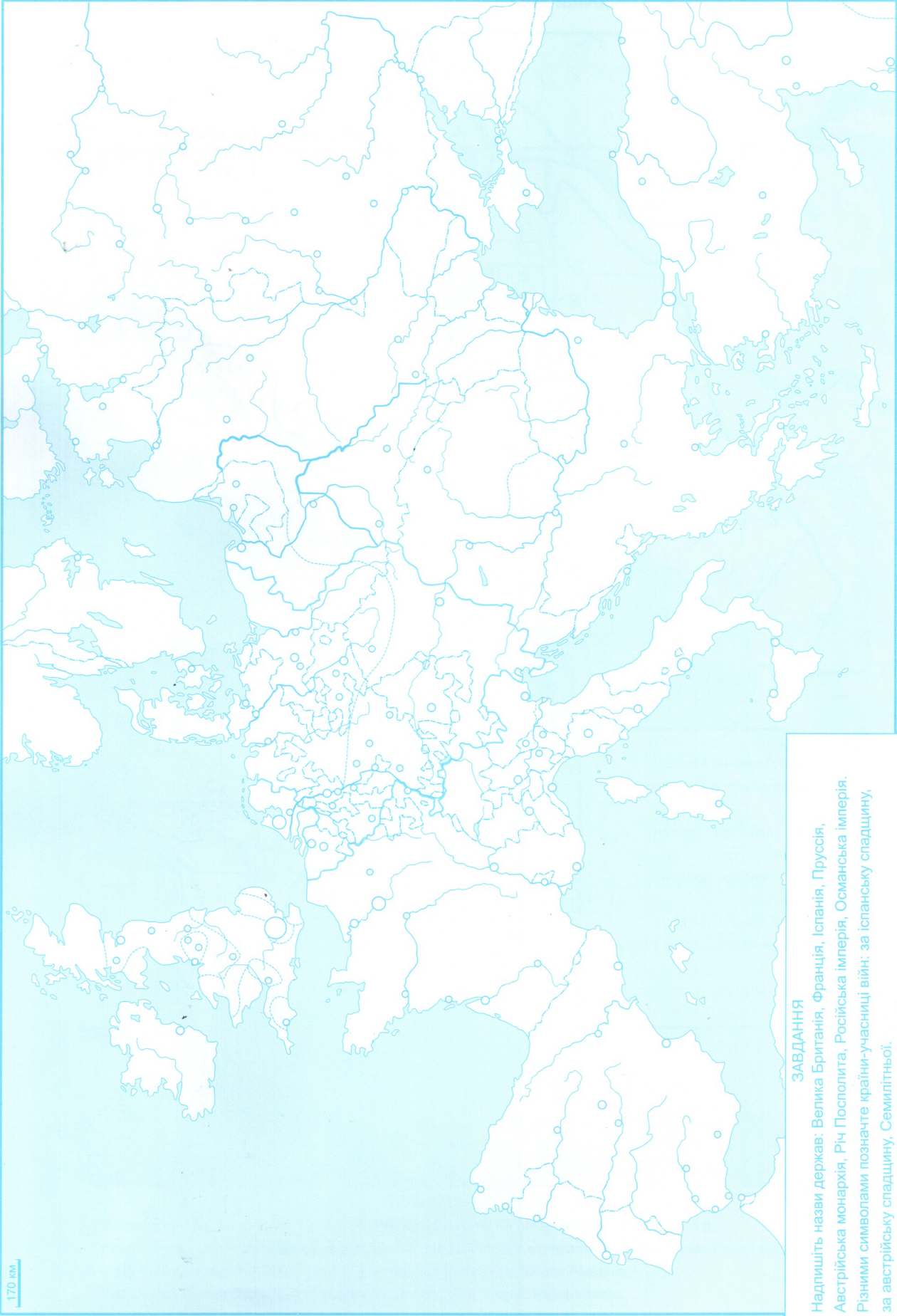


ЗАВДАННЯ

1. Зафарбуйте різними кольорами: територію Російської держави наприкінці правління Івана IV (1584 р.), прирощення територій до кінця правління Петра I (1725 р.), прирощення територій до кінця правління Катерини II (1796 р.).
2. Обведіть кордони Російської імперії наприкінці XVIII ст.
3. Надпишіть назви міст: Москва, Санкт-Петербург, Казань, Тобольськ, Охотськ. Червоним кольором надпишіть назви міст, що розташовані на території сучасної України.

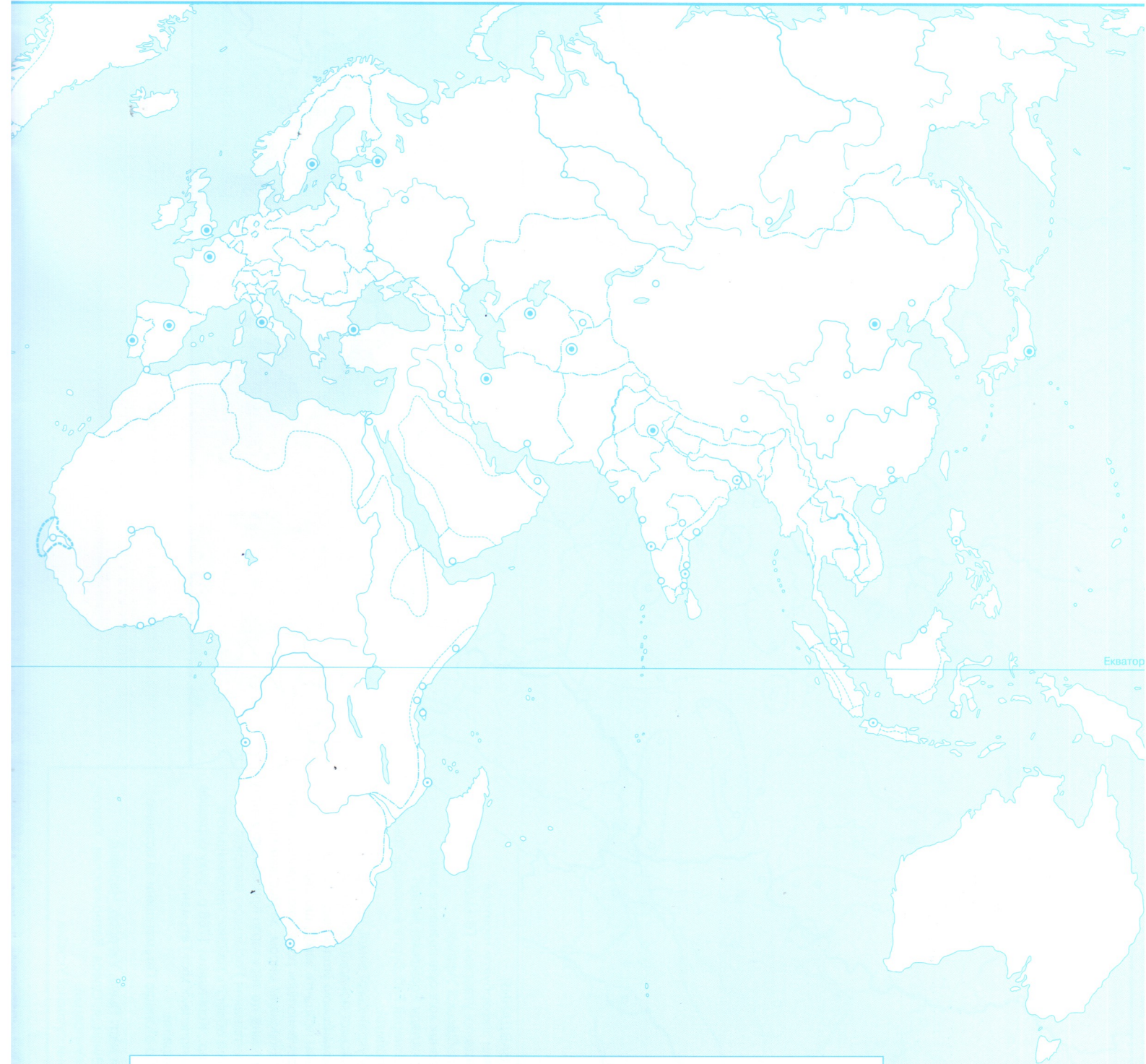
ЄВРОПА у XVIII ст.

170 км



ЗАВДАННЯ

1. Надпишіть назви держав: Велика Британія, Франція, Іспанія, Пруссія, Австрійська монархія, Річ Посполита, Російська імперія, Османська імперія.
2. Різними символами позначте країни-учасниці війн: за іспанську спадщину, за австрійську спадщину, Семилітньої.
3. Позначте межі поділу Речі Посполитої між Росією, Австрією та Пруссією.
4. Позначте землі або міста, які придбали Австрійська монархія та Велика Британія внаслідок війни за іспанську спадщину.
5. Позначте територіальні втрати Османської імперії внаслідок війн з Австрією та Росією.
6. Позначте й надпишіть назви міст: Лондон, Париж, Берлін, Відень, Варшава, Санкт-Петербург, Москва, Львів, Київ, Стамбул.



ЗАВДАННЯ

1. Різними кольорами позначте володіння Великої Британії на початку XVIII ст. та в 1763 р.
2. Обведіть межу північноамериканських земель, що їх Франція втратила внаслідок Семилітньої війни.
3. Позначте територію, на якій у 1776 р. утворилися Сполучені Штати Америки.
4. Різними кольорами зафарбуйте володіння: Іспанії, Португалії, Нідерландів.
5. Надпишіть назви найбільших держав.



ЗАВДАННЯ

1. Різніми кольорами зафарбуйте території українських державних утворень: Гетьманщини, Запорозжя та Слобідської України.
2. Штрихуванням різних кольорів позначте землі, що перейшли до складу Російської імперії та Австрійської монархії Габсбургів внаслідок трьох поділів Речі Посполитої.
3. Надпишіть назву української землі, що перейшла до складу Австрійської монархії Габсбургів за австрійсько-османською угодою від 1775 р.
4. Різніми кольорами позначте землі, що втратила Османська імперія внаслідок російсько-турецьких війн: за Кючук-Кайнарджійським миром, за Ясським миром. Іншим кольором позначте територію Кримського ханату; вкажіть рік його поглинання Російською імперією.
5. Різніми кольорами обведіть райони: гайдамаського руху 1734–1750 рр., Коліївщини 1768 р., руху опришків.
6. Надпишіть назви полкових міст Гетьманщини та Слобідської України.
7. Позначте останню столицю Гетьманщини та останню Запорозьку Січ.
8. Надпишіть назви міст: Львів, Ужгород, Черніці, Житомир, Київ, Вінниця, Одеса, Катеринослав, Херсон, Сімферополь, Бахчисарай.

ВЕЛИКІ ГЕОГРАФІЧНІ ВІДКРИТТЯ кінця XV – першої половини XVII ст.

