

Т. В. Воронцова, В. С. Пономаренко,
О. Л. Хомич, І. В. Гарбузюк, Н. В. Андрук

Я ДОСЛІДЖУЮ СВІТ

ЧАСТИНА 4

Зошит-практикум інтегрованого курсу
для 1 класу закладів загальної середньої освіти
(у 4-х частинах)



Київ
Видавництво «Алатон»
2019

УДК 57.081.1(075.2)

Я11

Схвалено для використання у загальноосвітніх навчальних закладах
комісією з педагогіки та методики початкового навчання

Науково-методичної ради з питань освіти

Міністерства освіти і науки України

(Лист ІМЗО від 08.02.2019 № 22.1/12-Г-37)

Я11 Я досліджую світ. Частина 4: зошит-практикум інтегрованого курсу для 1 кл. закладів загальної середньої освіти (у 4-х частинах) /Т. В. Воронцова, В. С. Пономаренко, О. Л. Хомич, І. В. Гарбузюк, Н. В. Андрук. — К.: Видавництво «Алатон», 2019. — 64 с.

ISBN 978-966-2663-68-6

Зошит-практикум «Я досліджую світ. Частина 4» створено відповідно до Державного стандарту початкової освіти, затвердженого постановою Кабінету Міністрів України від 21.02.2018 № 87. Може використовуватися у школах, що працюють за чинними Типовими освітніми програмами.

Зошит-практикум є частиною навчально-методичного комплекту, до якого також входять: підручник, методичний посібник для вчителя, електронний мультимедійний посібник для учнів, збірка відеоматеріалів і комп'ютерних презентацій.

Ці матеріали розміщено у вільному доступі за посиланням:
http://autta.org.ua/ua/resources/ya_doslidzhuyu_svit/

УДК 57.081.1(075.2)

© ТОВ «Видавництво «Алатон»,
текст, дизайн, малюнки, 2019

© Т. В. Воронцова, текст, дизайн, малюнки, 2019

© О. М. Курило, малюнки, 2019

© ТОВ «Видавництво «Розумники»,
обкладинка, титул, 2019

ISBN 978-966-2663-68-6

Про мене

Прізвище _____

Ім'я _____

По батькові _____

(напиши)

У моєму прізвищі літер.

У моєму імені літер.

(полічи)

Мій день народження

1	2	3	4	5	6	7	8	ГРУДЕНЬ	СІЧЕНЬ	ЛЮТИЙ
9	10	11	12	13	14	15	16	БЕРЕЗЕНЬ	КВІТЕНЬ	ТРАВЕНЬ
17	18	19	20	21	22	23	24	ЧЕРВЕНЬ	ЛИПЕНЬ	СЕРПЕНЬ
25	26	27	28	29	30	31		ВЕРЕСЕНЬ	ЖОВТЕНЬ	ЛИСТОПАД

(обведи)

Моїх рідних звать

(прізвище, ім'я, по батькові)

(прізвище, ім'я, по батькові)

(прізвище, ім'я, по батькові)

Водний світ

«Збери» склади у правильному порядку і заповни таблицю внизу сторінки.

ропКо



нігмиВось



ньОку



раВид



фінДель



берБо




задуМе




Тварини прісних водойм	Тварини солоних водойм


Розв'яжи приклади і допоможи рибці знайти її родину.



1. Полічи і запиши, скільки у морі тварин.



2. Постав відповідний знак (<, >, =).




Розв'яжи задачі.

1. Батискаф занурився на глибину 10 метрів, а потім ще на 8 метрів. На скільки метрів занурився батискаф?



--	--	--	--	--

2. Довжина щуки 10 дециметрів, а сома — 15 дециметрів. На скільки дециметрів сом довший за щуку?



--	--	--	--	--



3. На березі сиділо 18 жабок. Спочатку в озеро плигнули 2 жабки, а потім ще 3 жабки. Скільки жабок залишилося на березі?

--	--	--	--	--	--

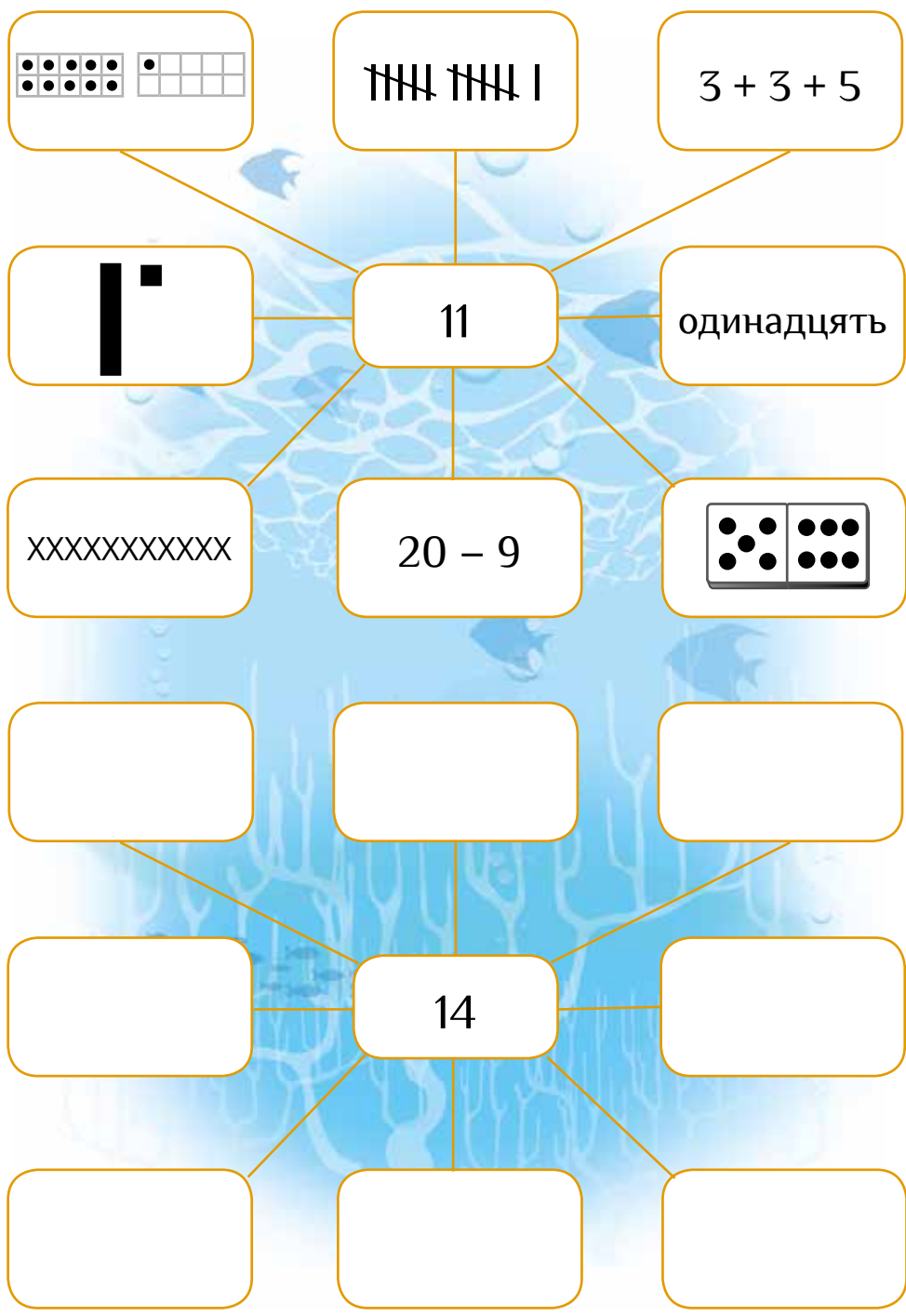


Розфарбуй малюнок за допомогою підказки.

Е — ● Ш — ● Щ — ● І — ● Ї — ●

І	І	І	І	І	І	І	І	І	І	Щ	Щ	Щ	Щ	І	І	І	І
І	І	І	І	І	І	І	І	Щ	Щ	Щ	Ш	Ш	І	І	І	Щ	І
І	І	І	І	І	І	Щ	Щ	Щ	Щ	Ш	Ш	І	І	І	Щ	Щ	Ш
І	І	І	І	І	Щ	Ш	Ш	Щ	Щ	Щ	Щ	Щ	І	Щ	Щ	Ш	Ш
І	І	І	І	Щ	Ш	Е		Ш	Ш	Щ	Щ	Щ	Щ	Щ	Ш	Ш	Ш
І	І	І	І	Щ	Ш			Ш	Щ	Щ	Щ	Щ	Щ	Ш	Ш	Ш	Ш
І	І	І	І	Щ	Щ	Ш	Ш	Щ	Щ	Щ	Щ	Щ	Щ	Щ	Ш	Ш	Ш
І	І	І	І	І	Щ	Щ	Щ	Щ	Щ	Щ	Щ	Щ	І	Щ	Щ	Ш	Ш
І	І	І	І	І	І	Щ	Щ	Щ	Щ	Ш	Ш	І	І	І	Щ	Щ	Ш
І	І	І	І	І	І	І	І	Щ	Щ	Щ	Ш	Ш	І	І	І	Щ	І
І	І	І	І	І	І	І	І	І	І	Щ	Щ	Щ	Щ	І	І	І	І
І	І	І	І	І	І	І	Ї	Ї	І	І	І	І	І	І	І	І	І
І	І	І	І	І	І	Ї	Ї	Ї	Ї	І	І	І	І	І	І	І	І
І	І	І	І	І	І	Ї	Ї	Ї	Ї	І	І	І	І	І	І	І	І
І	І	І	Ї	Ї	Ї	Ї	Ї	Ї	Ї	Ї	Ї	Ї	І	І	І	І	І
І	І	І	І	Ї	Ї	Ї	Ї	Ї	Ї	Ї	Ї	Ї	І	І	І	І	І
І	І	І	І	І	Ї	Ї	Ї	Ї	Ї	Ї	Ї	Ї	І	І	І	І	І
І	І	І	І	І	Ї	Ї	Ї	Ї	Ї	Ї	Ї	Ї	І	І	І	І	І
І	І	І	І	І	Ї	Ї	Ї	Ї	Ї	Ї	Ї	Ї	І	І	І	І	І
І	І	І	І	І	Ї	Ї	Ї	І	І	Ї	Ї	Ї	І	І	І	І	І
І	І	І	І	Ї	Ї	Ї	І	І	І	І	Ї	Ї	Ї	І	І	І	І
І	І	І	І	Ї	Ї	І	І	І	І	І	Ї	Ї	І	І	І	І	І

Виконай завдання за зразком. Представ число 14 різними способами.



Весна іде, красу несе

1. Відгадай загадку і запиши відповідь.



У лісах струмки пустила,
Землю травами встелила.
Перші квіти принесла.
Чарівна моя...

В



2. Весна переплутала літери у назвах місяців.
Розташуй літери у правильному порядку і запиши
слова, що утворилися.

З Е Н Ь Р Е Б Е

Н Ь К В І Т Е

В Е Н Ь Т Р А

Запиши у кружечках правильний порядок слів у кожному реченні. Прочитай речення.

3 2 1 4 5
весни початку На природа оживає.

○ 1 ○ ○ ○ ○
з'являються, Перші щойно сніг. зійде квіти


○ ○ ○ ○
їх називають первоцвітами. Тому

○ ○ ○ ○ ○
листя. розпускається На деревах молоде

○ ○ ○ ○
Птахи вірію. з повертаються

○ ○ ○ ○ ○
до починають Люди готуватися свят.

Розглянь малюнки і познач **✓** ті, на яких зображено, що роблять навесні. Склади за ними розповідь.



Розв'яжи математичний «кресворд».

10 + = 15

+ +

3 + = 6

+ = 54

12 =

=

+ 5 = 20

+

22

=

25 + = 60

=

13 = -

+

32

=

- 12 = 34

+

=

40 - = 20

-

25 =

36 =

12 = - 24


+

=

8

-

1. Розфарбуй другу половинку писанки.



2. Обведи букви і прочитай, як називається свято, до якого фарбують яйця.

ВЕЛИКДЕНЬ

Підказка: 1 десяток = 10 одиниць

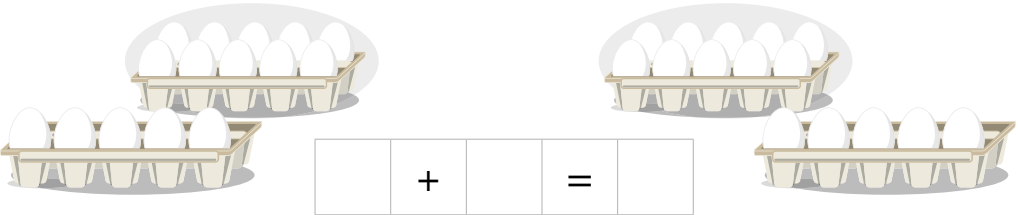
Розв'яжи задачі.

1. Аліна пофарбувала 10 яєць, а Богдан – 30. Скільки десятків яєць пофарбували діти?



Відповідь: діти пофарбували десятки яєць.

2. Максим спочатку купив 15 яєць. Потім ще 15 яєць. Скільки десятків яєць купив Максим?



Відповідь: Максим купив десятки яєць.



3. В Асі було 30 крашанок. 2 крашанки вона подарувала братику і 6 крашанок друзям. Скільки крашанок залишилося в Асі?



	-		-	=	
--	---	--	---	---	--

Скільки у цьому числі десятків і одиниць ?

Заповни порожні клітинки так, щоб у кожному рядку і стовпчику кожна квітка повторювалася лише один раз.



У світі тварин

Розв'яжи приклади і розфарбуй малюнок.

15



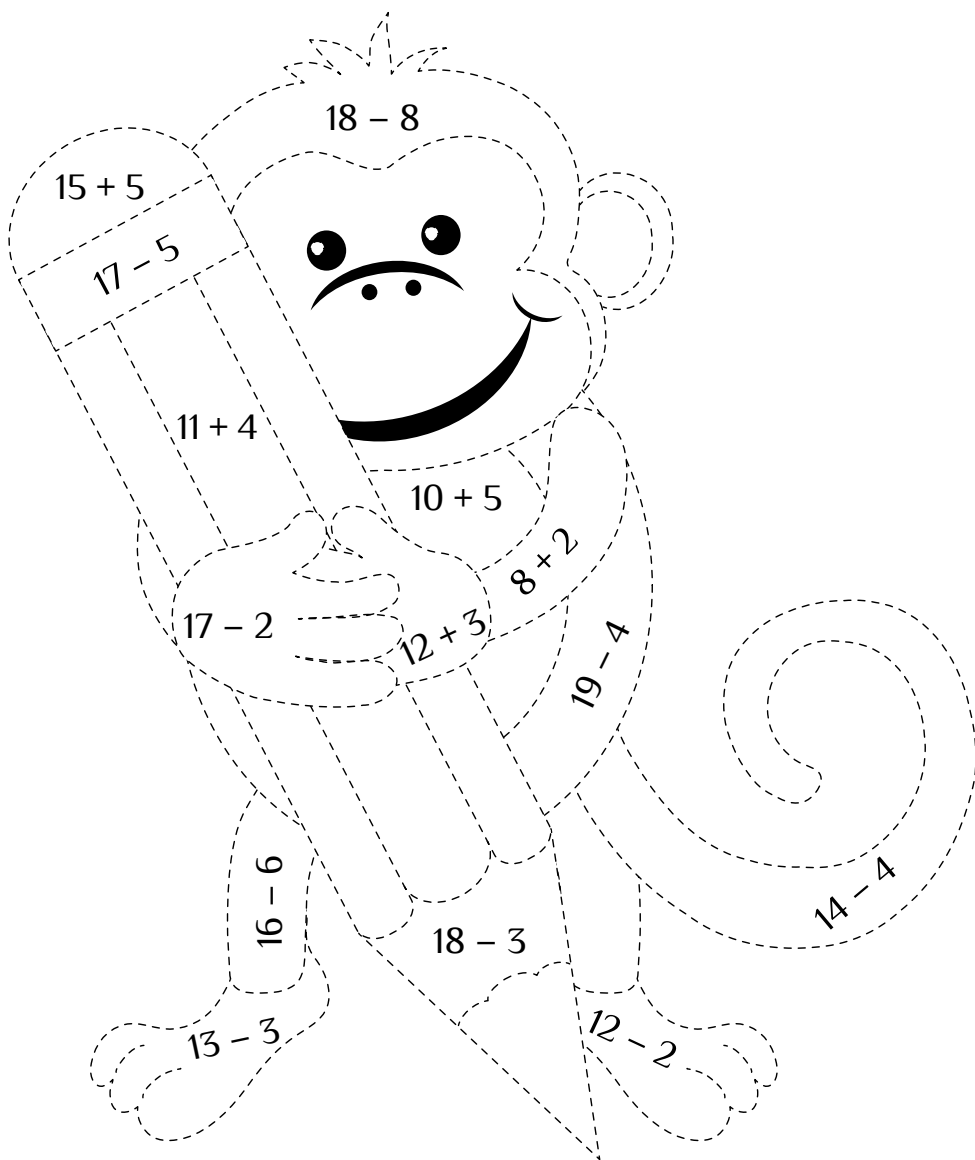
20





10




12



1. Обведи контури тварин. Полічи і запиши, скільки тут слоників, левів, крокодилів, ведмедиків.






2. Розв'яжи математичні ребуси.

$$\begin{array}{cccccc}
 \text{crocodile} & + & \text{crocodile} & + & \text{crocodile} & + & \text{elephant} & + & \text{lion} & = & \square
 \end{array}$$

$$\begin{array}{cccccc}
 \text{elephant} & + & \text{bear} & + & \text{lion} & + & \text{crocodile} & + & \text{elephant} & = & \square
 \end{array}$$

$$\begin{array}{cccccc}
 \text{lion} & - & \text{bear} & + & \text{elephant} & + & \text{elephant} & + & \text{crocodile} & = & \square
 \end{array}$$

1. З'єднай стрілочками тварин з їх будиночками.
Літерою «Л» познач будиночки, які збудувала людина, літерою «Т» — зроблені тваринами.



2. Полічи їхню кількість і постав знак $>$, $<$ або $=$.

Л =




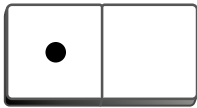
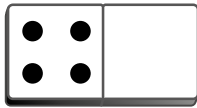





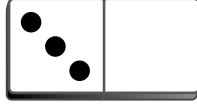







Т =

Л Т

Розв'яжи кросворд і прочитай назву тварини у блакитних клітинках.

1. Підступна як _ _ _ _ .
2. Хитра як _ _ _ _ _ .
3. Як _ _ _ наплакав.
4. _ _ _ _ _ на хвості принесла.
5. Як з _ _ _ _ _ вода.
6. Здоровий як _ _ _ .

1. Домалюй потрібну кількість крапочок.

2. Запиши номери тварин, які:

літають

<input type="text"/>	<input type="text"/>
----------------------	----------------------

повзають

<input type="text"/>	<input type="text"/>
----------------------	----------------------


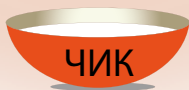




стрибають

<input type="text"/>	<input type="text"/>
----------------------	----------------------

плавають

<input type="text"/>	<input type="text"/>	<input type="text"/>
----------------------	----------------------	----------------------

Знайди миску для кожного котика і прочитай клички пухнастиків. Запиши їх унизу сторінки.



1. _____
2. _____
3. _____
4. _____

5. _____
6. _____
7. _____

1. Розгадай ребуси і з'єднай пари.

	А	Б	В	Г
1	У	П	К	О
2	Т	А	И	З
3	В	І	Л	Р
4	Ч	Е	Г	Я

В1	Б3	А2

Г1	Г3	Б4	В3

Б1	Б2	А3	А1	В1

В1	Г1	Г3	Г1	А3	Б2

Г3	Б2	А3	В3	В2	В1



2. Допоможи мавпенятку полічити банани.








55	+	4	=	
----	---	---	---	--

68	-	2	=	
----	---	---	---	--

35	+	4	=	
----	---	---	---	--

Назви частини тіла, яких не вистачає тваринам.
Домалюй їх.



Царство рослин

Запиши слова під малюнками і знайди ці слова у таблиці.

Г	Р	У	Ш	А	Г	Л	З	О	Н
М	Й	Ц	У	Р	Т	Т	К	Ц	Л
Л	О	Л	А	Я	С	К	А	Е	А
І	М	А	Ж	К	А	Ж	Б	Н	Ш
Л	И	М	О	Н	Я	Є	А	А	И
І	К	Р	Ц	И	Р	А	Ч	Т	Ж
Я	Ь	М	У	З	О	К	О	И	Ш
Ш	Ч	С	Б	У	З	О	К	Е	М
А	Е	Б	А	Л	Е	К	К	Е	А
С	А	Б	Е	Р	Е	З	А	Л	К









Розв'яжи приклади. Знайди усі частини однієї рослини і запиши їх суму на цілій рослині.




$10 - 7 =$



$2 + 6 =$



$7 + 3 =$



$14 - 4 =$



$3 + 4 =$



$9 - 7 =$



$15 - 5 =$



$4 + 1 =$



$8 - 7 =$



Розв'яжи задачі.

1. На гілці було 18 листочків. Вітер зірвав 8 листочків. Скільки листочків залишилося на гілці?



	-		=	
--	---	--	---	--

2. На клумбі ростуть 15 нарцисів, 3 туї і 5 тюльпанів. Скільки трав'янистих рослин росте на клумбі?



	+		=	
--	---	--	---	--

3. У парку ростуть 20 дубів, 9 сосен і 11 ялинок. Скільки хвойних дерев росте у парку?



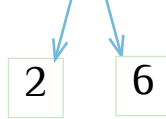
	+		=	
--	---	--	---	--

Розв'яжи приклади за зразком.

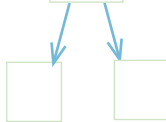
х	х	х	х	х	х	х	х	•	•
•	•	•	•	•	•				



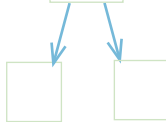
$$8 + 8 = 16$$



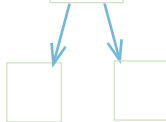
$$5 + 7 = \square$$



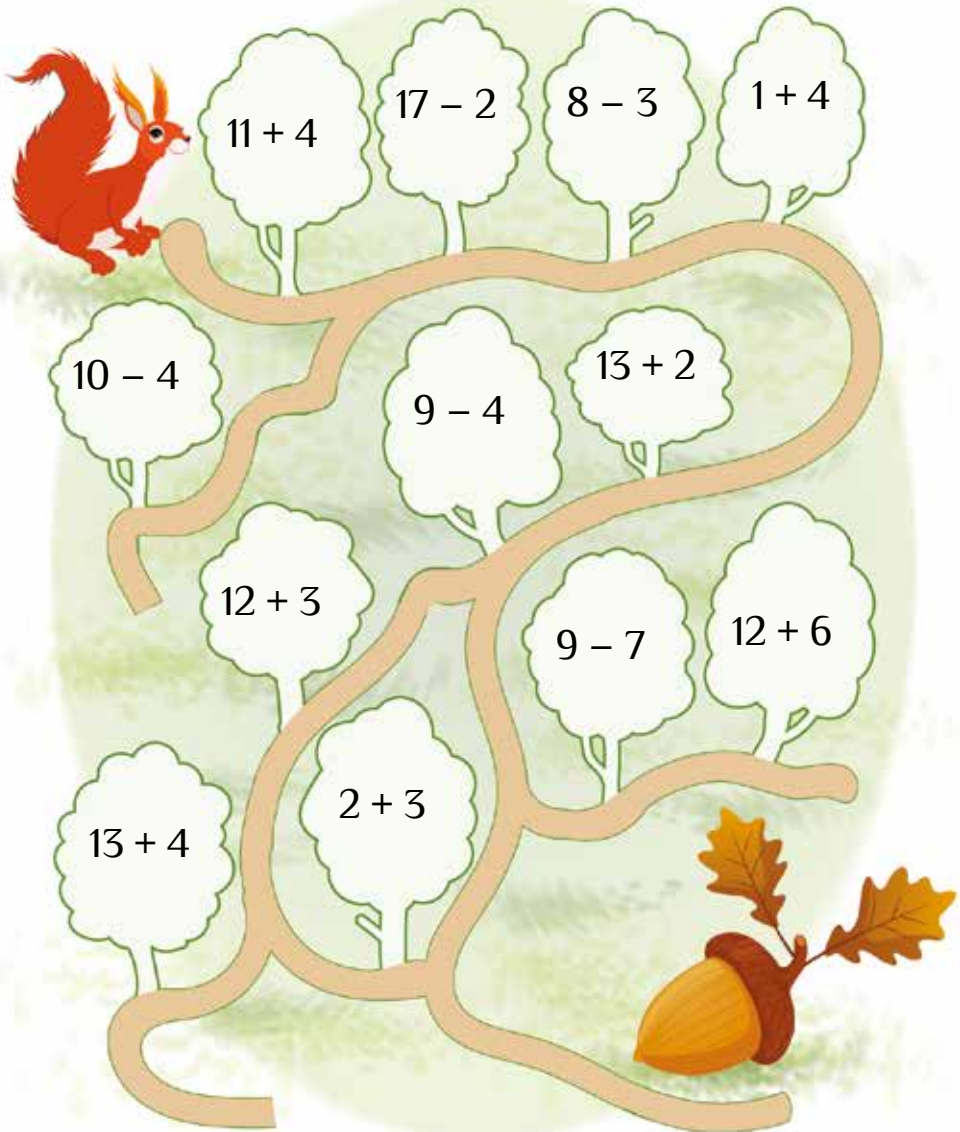
$$9 + 6 = \square$$





$$6 + 8 = \square$$



Розв'яжи приклади і допоможи білочці знайти жолудь. Вона піде маршрутом, де результати обчислень містять цифру 5.



Познач **✓** те, що ви бачили під час екскурсії.
У віконечку намалюй цікавий за формою листочок, який ти знайшов/знайшла.



Книжковий світ

1. У кожному рядку зафарбуй букви, які повторюються.

К	Ф	О	Р	Ю	И	Ф	С	Н	Ю	А
К	І	М	І	М	Н	И	І	Г	М	А –
Т	П	К	Т	Р	П	А	Щ	П	И	Й
А	Д	Н	Р	А	Н	У	Н	Г.	А	Н

К	У	Ш	Н	Ш	У	И	Г	У	Ш	А
Й	Н	А	Й	А	А	Е	Й	Й	А	Й
З	Х	Р	У	А	У	Д	Х	И	Т	Ь,
Н	Д	А	Д	Н	Н	Д	Д	Н	Н	Д
Л	Ц	А	И	А	И	Ш	А	Ц	Е	А
П	С	О	С	Р	А	Д	С	И	Т	Ь.

2. Запиши букви, що залишилися незафарбованими, і прочитай приказки.

1. КОРИСНА

2.

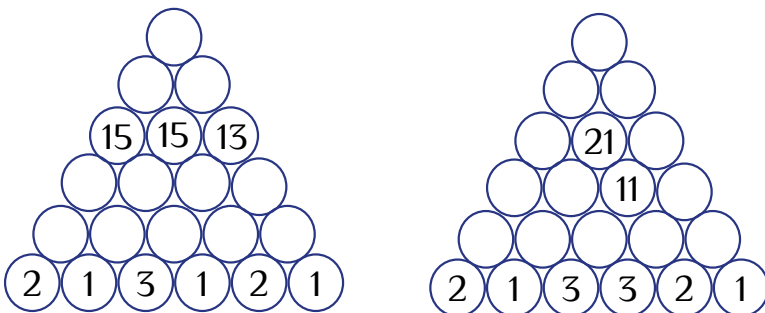
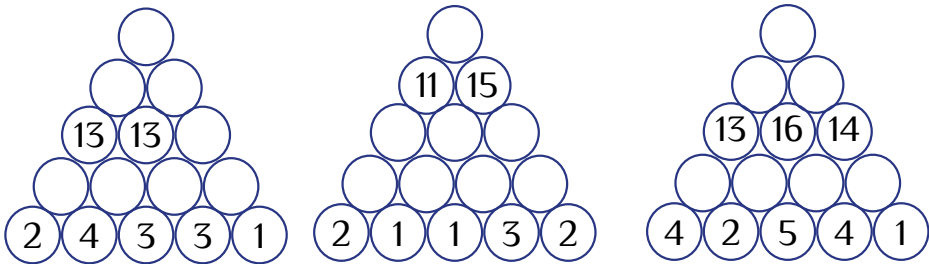
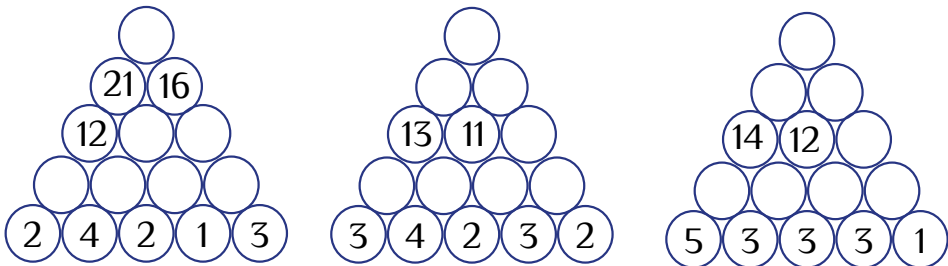
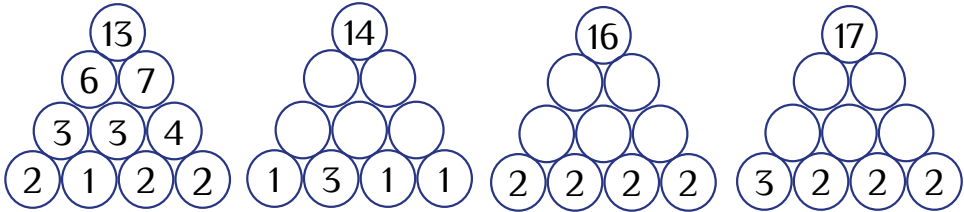
Полічи книжки на поличках і виконай завдання
внизу сторінки.



- На якій поличці найбільше книжок?
- На якій поличці найменше книжок?
- На яких поличках однакова кількість книжок?
- На скільки більше книжок на другій поличці, ніж на першій?

			=	
--	--	--	---	--

Марійка взяла у бібліотеці книжку «Цікава математика». Допоможи їй розв'язати математичні піраміди.



Розв'яжи задачі.

1. Поет написав 11 віршів, а потім ще 9 віршів.
Скільки всього віршів написав поет?



	+		=	
--	---	--	---	--

2. У магазині було 29 збірок оповідань. Спочатку купили 4 збірки, а потім ще 3 збірки. Скільки збірок оповідань залишилося в магазині?



	-		-		=	
--	---	--	---	--	---	--

3. Віка і Данилко читають однакові книжки. Разом вони прочитали 60 сторінок. Віка прочитала 8 сторінок. Скільки сторінок прочитав Данилко? Скільки сторінок йому залишилося прочитати, якщо у книжці всього 88 сторінок?



	-		=	
--	---	--	---	--

	-		=	
--	---	--	---	--

1. Розшифруй слово.

1	2	1	3	2	4	5	6	7	8

К	Т	Л	Е	І	А	Б	О
7	5	3	6	2	8	1	4

2. Допоможи дітям дійти до бібліотеки. Маршрут підкажуть приклади внизу сторінки. Розв'язуй їх стовпчик за стовпчиком.



10	27	44	38	8	12
35	31	65	78	16	56
43	21	28	54	56	98
79	63	12	28	34	12
19	84	46	18	32	14
18	95	52	65	47	98
43	76	58	31	95	49



$5 + 5$
$22 + 5$
$42 + 2$
$33 + 5$


$2 + 6$
$10 + 6$
$4 + 52$
$51 + 3$

$8 + 20$
$11 + 1$
$62 + 1$
$74 + 5$

$15 + 4$
$4 + 80$
$93 + 2$
$50 + 2$

$64 + 1$
$44 + 3$
$91 + 4$
$46 + 3$

Уяви, що ти художник. Намалюй обкладинку до казки «Колобок».



День землі

Розв'яжи приклади і розшифруй слова.

$47 - 3$
 $13 + 7$
 П
 К
 А
 Р
 $36 - 5$
 $22 + 7$



20	31	20	44	29

$12 + 6$
 $54 - 3$
 Л
 К
 С
 О
 $63 - 2$
 $21 + 7$



61	51	18	28

$78 - 4$
 $11 + 9$
 Т
 Е
 Л
 А
 М
 $66 + 4$
 $31 + 6$
 $49 - 6$



43	20	74	37	70

$14 + 5$
 $36 + 3$
 П
 Н
 Л
 А
 Г
 К
 О
 $87 - 4$
 $49 - 8$
 $5 + 5$
 $12 + 5$
 $41 + 3$



17	19	10	41	39	83	44	41

1. Розглянь, скільки часу сміття залишається в землі.

 2 – 4 тижні Газети, паперові серветки	 7 – 10 днів Шкірки від бананів	 5 років Пакет з-під молока або соку
 5 – 10 років Недопалок цигарки	 до 90 років Бляшанка	 понад 100 років Скло
 понад 100 років Пластикові пляшки	 понад 100 років Поліетиленова плівка	 понад 500 років Одноразовий підгузник

2. Розстав знаки <, >, =.

	<input type="text"/>			<input type="text"/>	
	<input type="text"/>			<input type="text"/>	
	<input type="text"/>			<input type="text"/>	

Обведи кожную третью літеру, рухаючись зліва направо, і запиши слова, що утворилися.

1

А	Ю	М	Й	А
А	К	Р	К	У
Р	У	Ц	Е	Л
Н	К	А	Т	И
Т	М	Ж	У	Т
З	Р	Ш	Щ	А

2

Я	Ч	К	С	М
О	И	Т	Н	Ь
Б	Т	Ю	Є	Е
Ж	Д	Й	Л	О
Н	Р	П	Е	А
В	Р	І	Ф	

3

Х	З	С	Щ	Ш
О	Г	Н	Р	Е
К	Т	У	Ц	У
Й	Я	В	Ч	С
А	Е	Н	Н	Ц
К	Н	И	Ь	Я

4

Ю	Д	П	Щ	Ш
Е	Л	Б	Р	Ь
Т	Е	О	Г	Р
Н	Р	О	Т	И
Б	П	Е	К	М
Е	А	К	У	

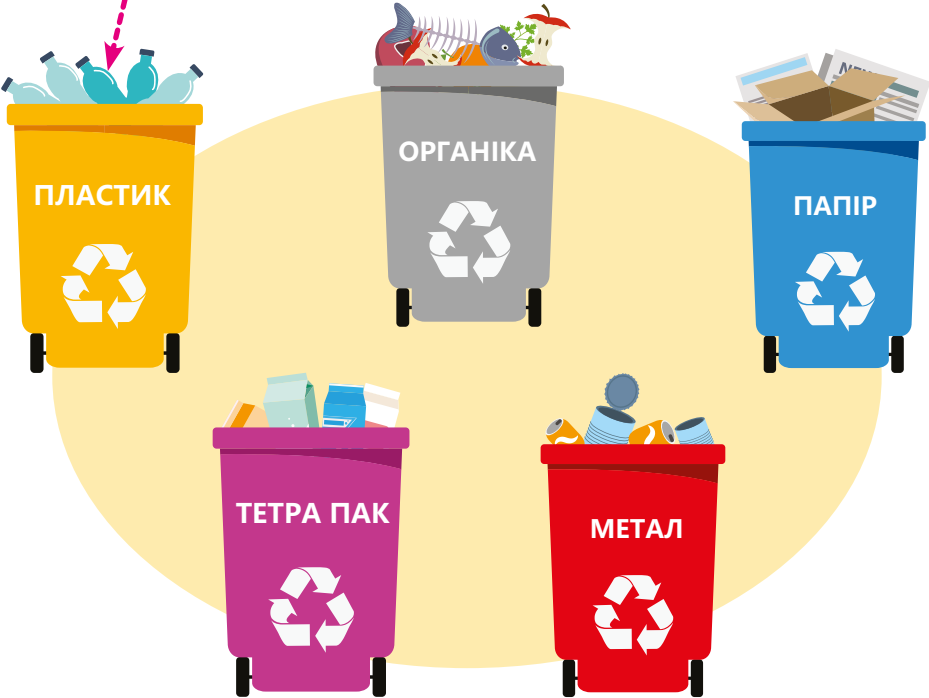
1

3

2

4

Допоможи дітям посортувати сміття. Обведи те, що не переробляється.



1. Поеднай малюнки — і ти дізнаєшся, як зменшити кількість сміття.



2. Обведи речі:

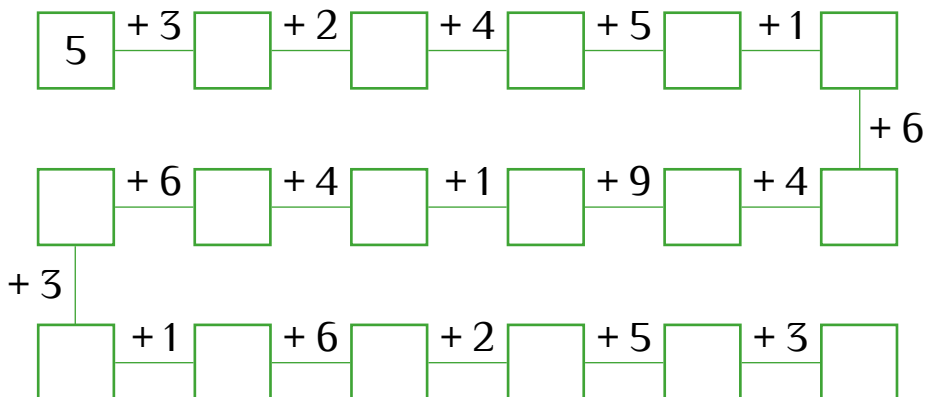
- користування, якими можна скоротити;



- які можна віддати на переробку.



1. Розв'яжи приклади в ланцюжку і дізнайся, скільки кілограмів макулатури зібрали учні першого класу.



2. Розв'яжи приклади, заповни порожні клітинки.

+ 4	1	2	3	4	5	6	7	8	9
	5	6							

+ 3	11	12	13	14	15	16	17	18	19
								21	22

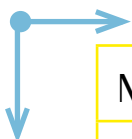
+ 2	21	22	23	24	25	26	27	28	29
									31

- 2	41	42	43	44	45	46	47	48	49
	39								

- 3	61	62	63	64	65	66	67	68	69
	58	59							

День сім'ї

Знайди у таблиці слова, що записані внизу сторінки.



М	О	У	Г	Т	М	А	М	А	О
Л	Й	Т	А	Т	О	Т	Ф	Ц	Н
Б	А	Б	У	С	Я	А	И	Е	У
Д	О	Н	Ь	К	А	Н	А	М	К
Щ	Н	Н	Д	І	Д	У	С	Ь	А
А	У	Р	И	И	Р	К	Е	Т	О
Ж	К	Л	Н	Р	П	А	С	И	Н
Я	Ч	С	У	И	Т	Ь	Т	Е	І
Б	Е	А	Р	Л	Е	Б	Р	А	Т
І	М	Ф	І	Ш	А	Р	А	Л	Т



Під час виконання домашніх завдань у брата і сестри виникли труднощі. Допоможи їм.

1. Знайди і зафарбуй помилки, яких діти припустилися під час виконання цього завдання.

1. 51 52 53 54 55 56 55 58 59
2. 80 83 82 83 84 85 86 87 88
3. 29 28 27 26 28 24 23 22 21
4. 48 47 46 45 44 45 42 41 40

2. Доповни числові послідовності.


3	6	9	12			21				
										99

5	10	15					40		
		65			80				

Розв'яжи математичний «пазл».

32	+		=	36	-		=	24
-		+		-		+		-
11	-	5	=		+	4	=	
=		=		=		=		=
	+		=		-	16	=	
+		+		+		-		+
7	+	1	=		+		=	10
=		=		=		=		=
	+		=		-	14	=	

Намалюй у віконечку свою родину. Розфарбуй малюнок.



Визнач і запиши, хто з дітей іде:

- до парку розваг _____
- на стадіон _____
- додому _____



1. Познач Е електричні прилади, а НЕ — неелектричні.

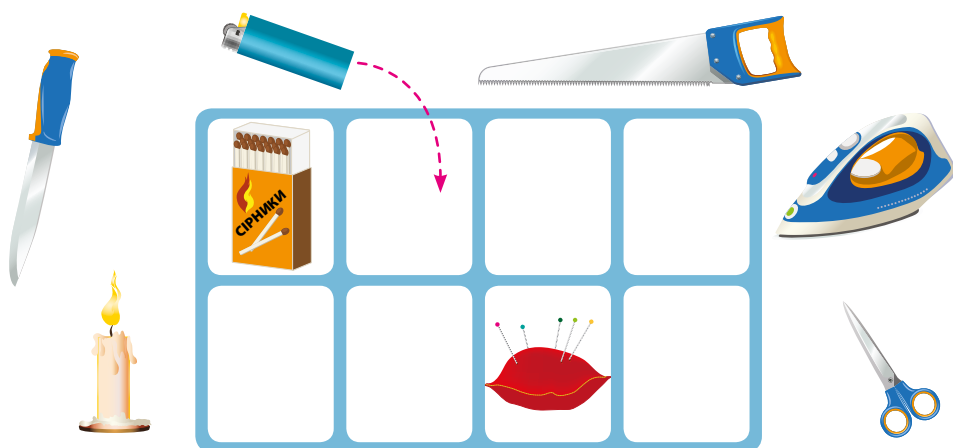


2. Полічи їх кількість і постав знак >, < або =.

=
 =

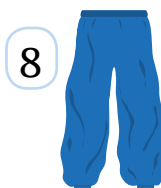
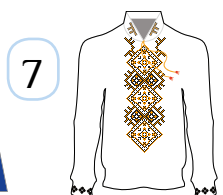


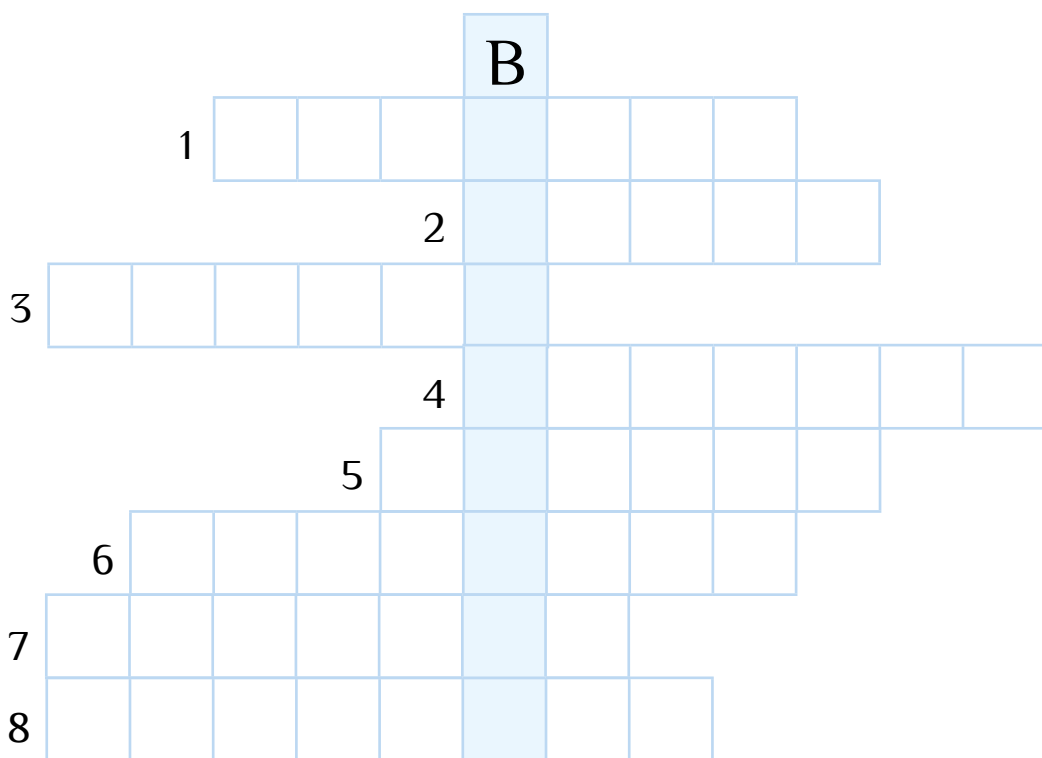
3. Доповни табличку речами:

- які можуть спричинити пожежу;
- якими можна поранитися.



СВЯТО ВИШИВАНКИ






Розв'яжи кросворд і прочитай слово, що утворилося в блакитному стовпчику.



1. Запиши елементи національного одягу у відповідні стовпчики.

Жіночий одяг	Чоловічий одяг	Спільний одяг

2. Зафарбуй стільки квіток, скільки десятків у числі, й стільки стрічок, скільки у ньому одиниць.

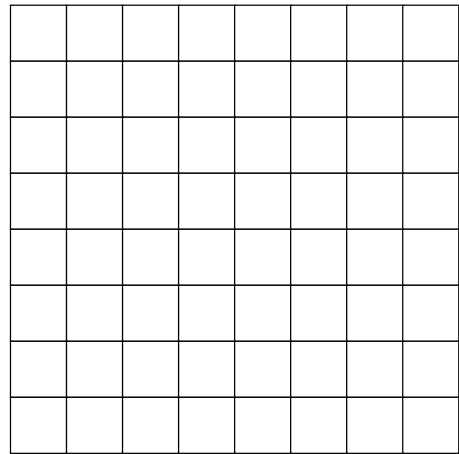
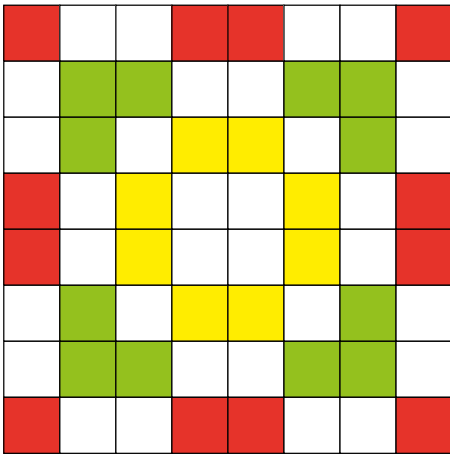


Розфарбуй малюнок за допомогою підказки.

у — ● х — ● ф — ● ш — ● щ — ●

				ш	ш	ш	ш		у										у	
			ш	ш	ф	ф	ф	ш	у	у			у	у						
		ш	ш	ф	ф	х	х	х	ш	у			у	у						
		ш	ш	ф	х				х	у			у							
		ш	ш	ф	х					у	у									
		ш	ш	ф	ф	х	х	ф		у										
			ш	ш	ф	ф	ф			у			х	х						
				ш	ш	ш				у	х	х	х							
									у	у	у									
								у	у											
			у					у	щ	щ	щ	щ	щ							
			у	у		у	щ	щ	ф	ф	ф	щ	щ							
			у	у		у	щ	х	х	х	ф	ф	щ	щ						
				у		у	х					х	ф	щ	щ					
					у	у							х	ф	щ	щ				
						у			ф	х	х	ф	ф	щ	щ					
			х	х		у			ф	ф	ф	щ	щ							
				х	х	х	у					щ	щ	щ						
						у	у	у												
								у	у											

1. Намалюй за зразком.



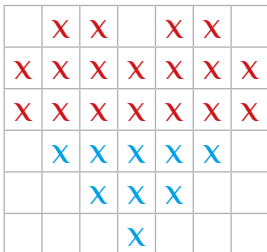
2. Полічи кількість хрестиків. Склади приклади за зразком і розв'яжи їх.



$$16 + 5 = 21$$



$$\square + \square = \square$$



$$\square + \square = \square$$

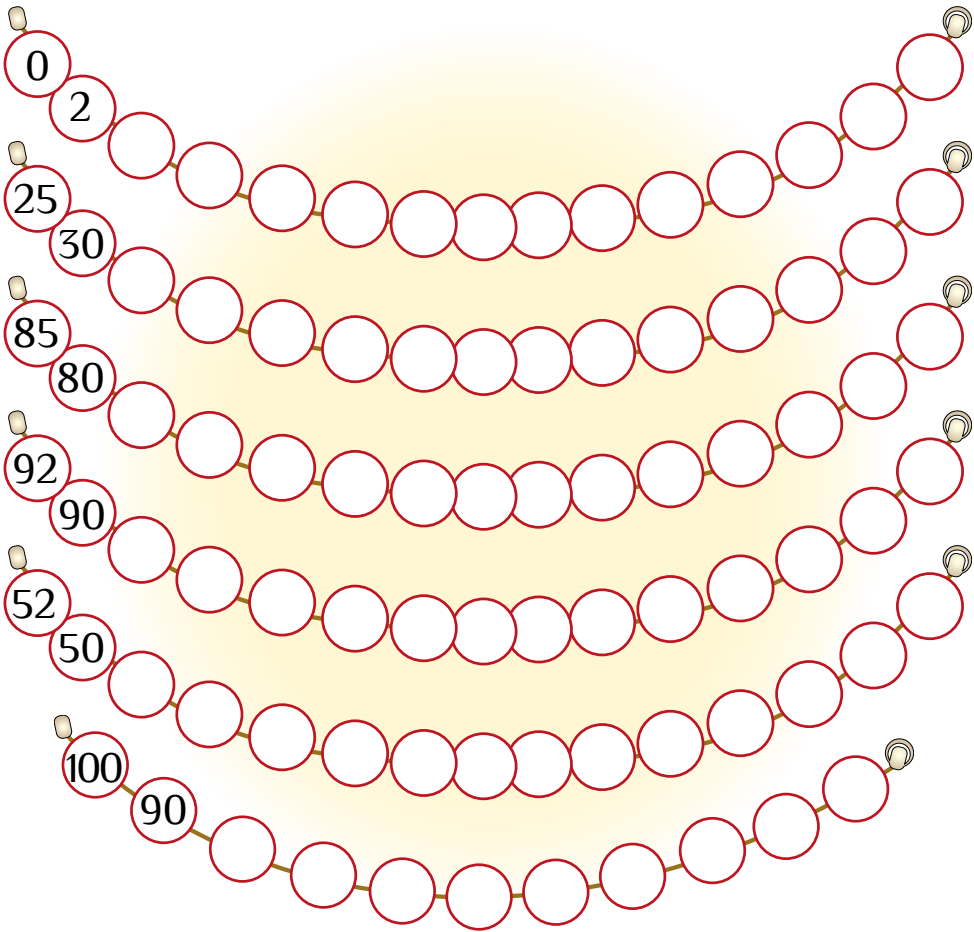


$$\square + \square = \square$$

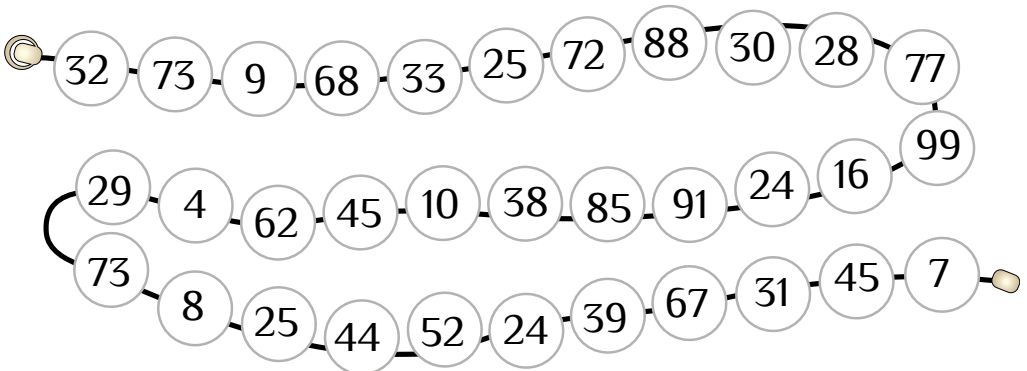


$$\square + \square = \square$$

1. Продовж послідовність.



2. Розфарбуй червоним кольором числа менше 40, а синім — числа більше 40.




1. Допоможи зібрати розірване намисто. Склади намистинки у правильному порядку і запиши слова, що утворилися.

2. Розшифруй ребус і запиши відповідь.

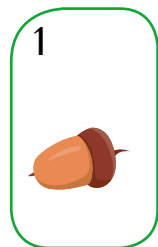


Продовж орнамент.




На порозі літо

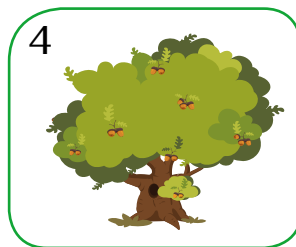
Пронумеруй стадії розвитку тварин і рослин.




жолудь




молодий дубок




дуб




паросток




гусінь




яйця



лялечка




метелик




півень або курка




яйця



курча



висиджування



квітка



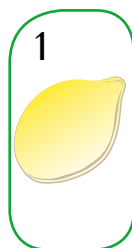
паросток



лоза



гарбуз



насіння

1. Знайди невідомі доданки (полічи усно або використай чернетку).

$$\text{corn} + 20 = 50$$

$$\text{corn} = \square$$

$$\text{sunflower} + 10 = 30$$

$$\text{sunflower} = \square$$

$$\text{pumpkin} + 30 = 80$$

$$\text{pumpkin} = \square$$

$$\text{peas} + 40 = 50$$

$$\text{peas} = \square$$

$$\text{pears} + 60 = 100$$

$$\text{pears} = \square$$

$$\text{oranges} + 30 = 90$$

$$\text{oranges} = \square$$

2. Розв'яжи приклади (за потреби використай чернетку).

$$\text{corn} + \text{sunflower} = \square$$

$$\text{sunflower} - \text{peas} = \square$$

$$\text{pumpkin} + \text{peas} = \square$$

$$\text{oranges} - \text{pears} = \square$$

$$\text{pears} + \text{oranges} = \square$$

$$\text{pumpkin} - \text{corn} = \square$$

$$\text{sunflower} + \text{sunflower} = \square$$

$$\text{oranges} - \text{pumpkin} = \square$$


$$\text{pears} + \text{corn} = \square$$

$$\text{pears} - \text{peas} = \square$$


$$\text{oranges} + \text{sunflower} = \square$$

$$\text{corn} - \text{sunflower} = \square$$


1. Розшифруй і запиши назви тварин.



биКола



шаЛо



роКова




сяроПо




няСви



няЯг



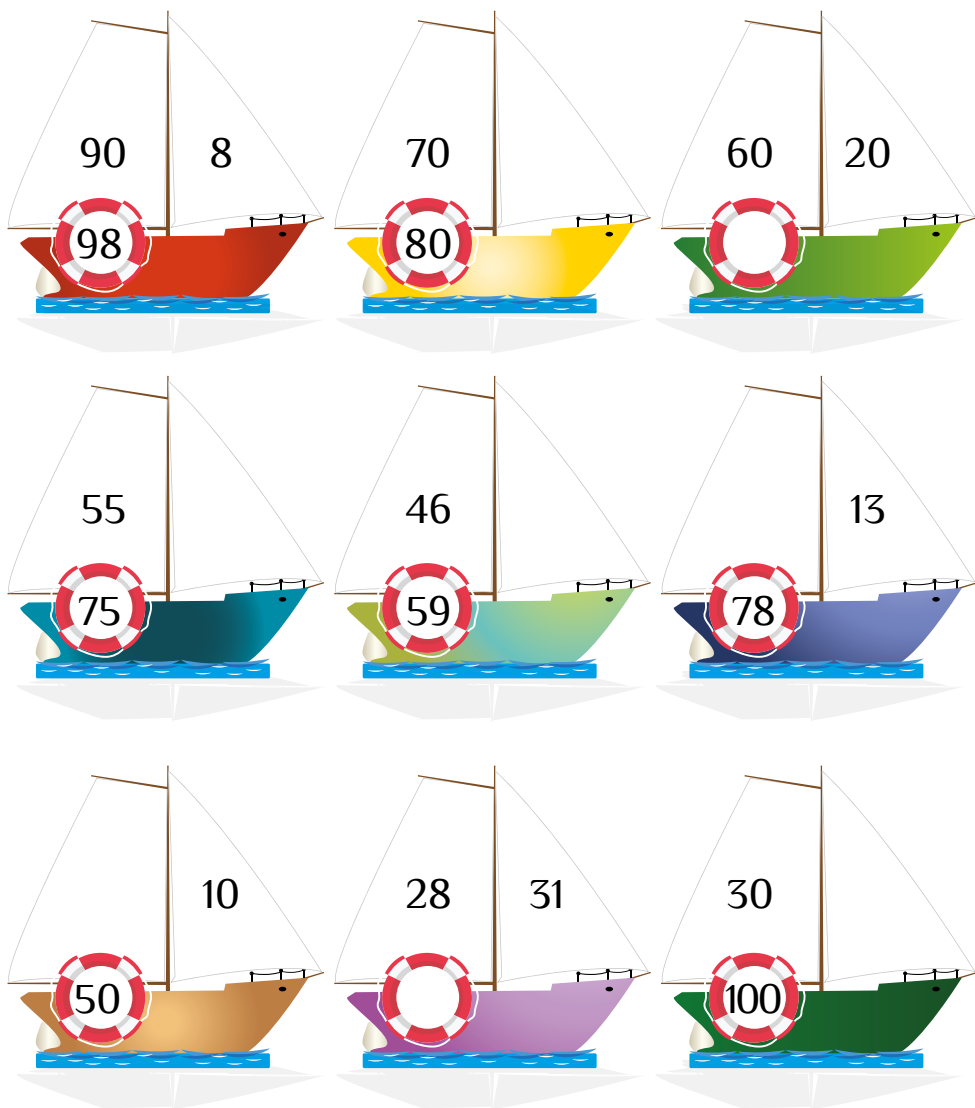
цяВів



ляТе

2. З'єднай мам із дитинчатами.

1. Запиши пропущені числа.



2. Прикрась вітрильники для змагання. Розфарбуй:

- червоним кольором вітрила, числа на яких складаються лише з десятків;
- блакитним кольором вітрила, числа на яких складаються з десятків і одиниць.

Розв'яжи задачі.

1. Олег купив морозиво за 20 гривень, і в нього залишилося ще 50 гривень. Скільки грошей було в Олега спочатку?



--	--	--	--	--

2. Мама дала Сергійкові 30 гривень. Тепер у нього в гаманці 80 гривень. Скільки грошей було у нього спочатку?



--	--	--	--	--

- 3*. Оленка була на морі 18 днів, Софійка — 14, а Петрик — на два дні менше, ніж Софійка.


- Скільки днів був на морі Петрик?
- На скільки довше була на морі Оленка, ніж Софійка?
- На скільки довше була на морі Оленка, ніж Петрик?

--	--	--	--	--

--	--	--	--	--

--	--	--	--	--

Продовж послідовність, щоб допомогти дітям дістатися моря.



Із наведених слів склади правила безпечного літнього відпочинку. Запиши їх.

Користуйся

Одягай

і головний

і фрукти.

дорослих.

з'явилися

Мий

сонцезахисним

кремом.

Якщо

сонцезахисні

окуляри

всі

жар

повідом

овочі

та нудота —

убір.

ЗМІСТ



Про мене.....	3
Водний світ	4
Весна іде, красу несе	10
У світі тварин	17
Царство рослин.....	25
Книжковий світ	31
День Землі.....	37
День сім'ї.....	43
Свято вишиванки.....	49
На порозі літо	56

Навчальне видання

Воронцова Тетяна Володимирівна
Пономаренко Володимир Степанович
Хомич Олена Леонідівна
Гарбузюк Ірина Вікторівна
Андрук Наталія Володимирівна

Я ДОСЛІДЖУЮ СВІТ

ЧАСТИНА 4

Зошит-практикум інтегрованого курсу для 1 класу
закладів загальної середньої освіти (у 4-х частинах)

Літературне редагування Л. Воронович
Художнє оформлення
О. Курило, ТОВ «Видавництво “Розумники”»
Коректор І. Шатунова

Формат 70×100/16. Гарнітура Philosofer. Друк офсетний.
Ум. друк. арк. 5,19. Обл.-вид. арк. 5,18.
Тираж 10 000 пр.

